

제 4 교시

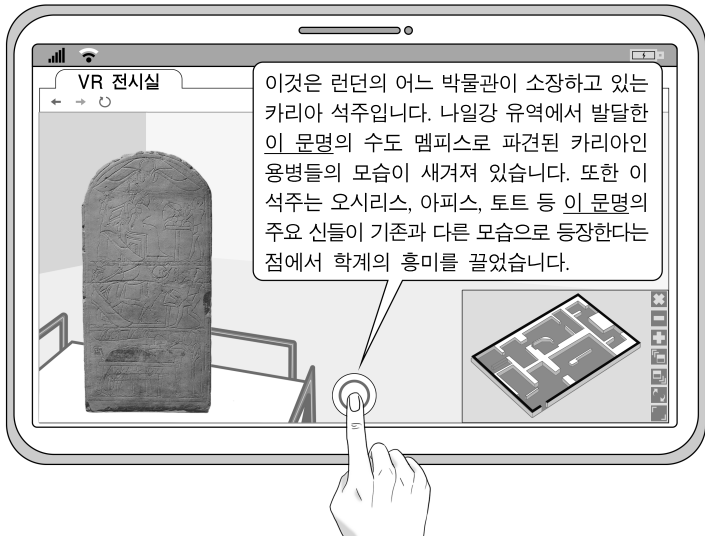
사회탐구 영역(세계사)

성명

수험 번호

제 () 선택

1. 밑줄 친 ‘이 문명’에 대한 설명으로 옳은 것은? [3점]



- ① 콜로세움을 축조하였다.
- ② 파피루스에 기록을 남겼다.
- ③ 함무라비 법전을 편찬하였다.
- ④ 점을 친 내용을 갑골에 새겼다.
- ⑤ 도리스인의 침입으로 파괴되었다.

2. (가)에 들어갈 내용으로 적절한 것만을 <보기>에서 고른 것은?

다큐멘터리 계획안

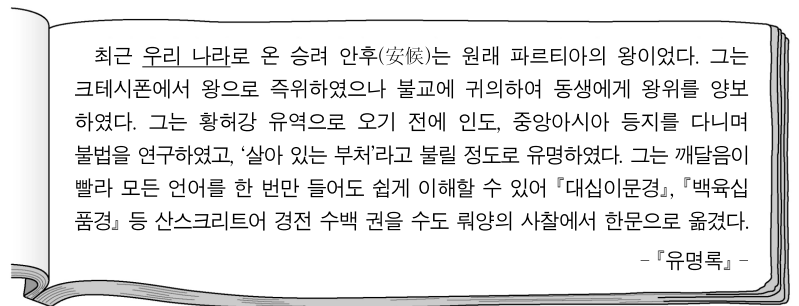
- 기획 의도: 십자군 전쟁이 가져온 유럽 사회의 변화를 조명한다.
- 회차 안내
 - 1회 - 교황의 영향력이 감소하다.
 - 2회 - 제후와 기사 계층이 몰락하다.
 - 3회 - (가)

<보 기>

- ㄱ. 상업 혁명으로 자본주의가 발달하다.
- ㄴ. 서유럽 사회에서 스콜라 철학이 유행하다.
- ㄷ. 베네치아 등 지중해 연안 도시들이 번영하다.
- ㄹ. 신흥 상공업자들이 칼뱅의 예정설을 수용하다.

- ① ㄱ, ㄴ ② ㄱ, ㄷ ③ ㄴ, ㄷ ④ ㄴ, ㄹ ⑤ ㄷ, ㄹ

3. 밑줄 친 ‘우리 나라’에 대한 설명으로 옳은 것은? [3점]



- ① 절도사에 의해 멸망하였다.
- ② 황건적의 난으로 쇠퇴하였다.
- ③ 흉건적 세력에게 수도를 빼앗겼다.
- ④ 내란으로 인해 동·서로 분열되었다.
- ⑤ 진승과 오광의 난을 계기로 몰락하였다.

4. 밑줄 친 ‘이 왕조’에서 있었던 사실로 옳은 것은?



- ① 균전제가 실시되었다.
- ② 사고전서가 편찬되었다.
- ③ 분서갱유가 단행되었다.
- ④ 9품중정제가 폐지되었다.
- ⑤ 맹안 모극제가 채택되었다.

5. (가) 인물에 대한 설명으로 옳은 것은?

도덕영역의 지식은 ‘공감’을 통해, 경제영역의 지식은 ‘이기심’을 통해 연역적으로 추론된다. (가)은/는 『도덕 감정론』에서 공감, 『국부론』에서 이기심을 우리 행위의 근원으로 삼았다. 그의 두 저작에 대한 명료한 관점은 이러한 근본적인 차이를 입증하며, 우리는 각각의 저작이 서로 보완적임을 인식할 수 있다. 그러므로 어느 하나를 이해하기 위해서는 양자 모두를 알아야 하는 것이 필수적이다.

- 토머스 버클 -

- ① 만유인력 법칙을 발표하였다.
- ② 백과전서 저술을 주도하였다.
- ③ 자유방임주의 이론을 주장하였다.
- ④ 루터의 종교 개혁에 영향을 미쳤다.
- ⑤ 자연 상태를 만인의 만인에 대한 투쟁으로 보았다.

세계사

2 (세계사)

사회탐구 영역

6. 자료의 상황이 나타난 시기를 연표에서 옳게 고른 것은?

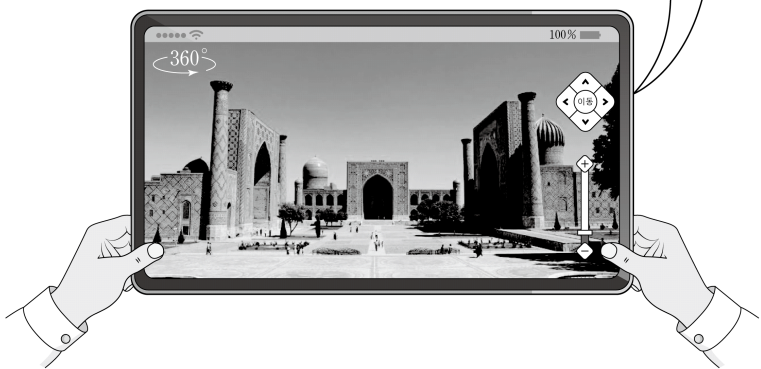
스파르타는 전쟁 당시 다음 강화 조건을 제시하였다.
 “피레우스의 성벽을 허물고 열두 척의 배만 남긴 뒤 모든 선박을 바쳐야 한다. 또한 망명자들을 다시 받아들이고 스파르타가 이끄는 대로 땅과 바다로 따라다녀야 한다.”
 테라메네스가 이끄는 사절단이 위와 같은 조건을 가지고 돌아오자 아테네에서는 불리한 강화 조건에 대해 열띤 토론이 벌어졌다. 그 결과 투표를 통해 조건을 수용하는 안이 가결되면서 아테네와 스파르타 사이에 강화 조약이 체결되었다.

	(가)	(나)	(다)	(라)	(마)	
솔론의 개혁	델로스 동맹 결성	알렉산드로스의 동방 원정	그라쿠스 형제의 개혁	스파르타쿠스의 난	약티움 해전	

- ① (가) ② (나) ③ (다) ④ (라) ⑤ (마)

7. (가) 왕조에서 볼 수 있는 모습으로 가장 적절한 것은? [3점]

이곳은 바자르라는 대규모 시장이 있었던 레기스탄 광장으로, (가)의 제4대 군주 울루그 베크 시기에는 이슬람교 교육 기관인 마드라사가 세워졌습니다. (가) 초기에는 칭기즈 칸의 후계자를 자처한 초대 군주가 수도 사마르칸트를 발전시키며 여러 상인들의 왕래가 증가하기 시작하였습니다.




- ① 예니체리로 편성되는 청년
 ② 타지마할을 축조하는 석공
 ③ 이스파한 천도를 명령하는 군주
 ④ 시크교도의 반란에 가담하는 농민
 ⑤ 우즈베크인 군대의 공격을 막아내는 병사

8. 밑줄 친 ‘칙령’에 대한 탐구 활동으로 가장 적절한 것은? [3점]

황제 레오 3세에게
 우리는 크리스티교 안에 있는 형제들로서, 당신이 버린 그 진리로 되돌아오기를 간청합니다. 오만함을 버리고, 헛된 신뢰를 버리고, 모든 곳에 편지를 보내어 그대가 선포한 칙령을 다시 거두어들여주시오. …(중략)… 당신은 우리가 돌과 벽과 판자 등의 우상을 숭배한다고 말하지만, 이는 사실이 아닙니다. 우리는 훈계와 포교를 위해 이를 사용하고 있는 것이지 절대 신으로 모시지 않습니다.
 교황 그레고리우스 2세

- ① 30년 전쟁의 경과를 찾아본다.
 ② 통일법(통일령)의 내용을 살펴본다.
 ③ 아비뇽 유수 시기의 정세를 파악한다.
 ④ 교회 세력이 동서로 분열된 과정을 정리한다.
 ⑤ 카노사의 굴욕 사건이 미친 영향을 조사한다.

9. 밑줄 친 ‘이 제국’에 대한 설명으로 옳은 것은?

 사진은 현재 이란 남서부에 위치해 있는 만국의 문이다. 문의 양옆에는 이 제국의 상징인 라마수라는 동물이 조각되어 있다. 그 당시 낙타를 타고 온 아라비아인, 들소를 몰고 온 간다라인, 전차를 끌고 온 리디아인 등 세계 곳곳에서 온 사신들이 페르세폴리스로 입궁하기 위해 이곳에서 대기하였다고 한다. 만국의 문은 이 제국의 자긍심과 풍요로움을 상징하였으나 알렉산드로스의 침략으로 일부 소실되었다.

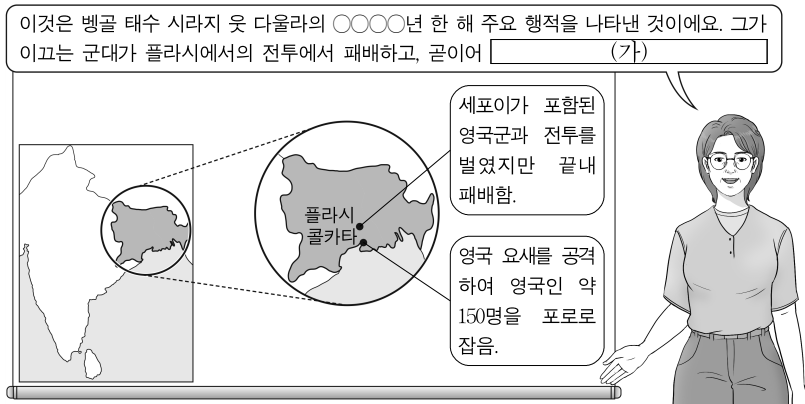
- ① 이슬람 세력에 의해 멸망하였다.
 ② 찬드라굽타 1세에 의해 건국되었다.
 ③ 살라미스에서 그리스 세계에 패배하였다.
 ④ 군사적 봉건제인 티마르제를 실시하였다.
 ⑤ 수도 니네베에 왕립 도서관을 건립하였다.

10. 다음 보고서를 작성한 국가에 대한 설명으로 옳은 것은? [3점]

아프리카 식민지에 대한 보고서
 우리가 보유한 아프리카 식민지들을 연결하기 위해 추진한 ‘장밋빛 지도 계획’의 실패 이후 우리는 지속적으로 경쟁국들의 견제를 받고 있다. 특히 우리의 식민지 중 하나가 4개국 식민지와 국경을 맞닿고 있다. 그렇기에 이곳에서 우리 정부의 움직임은 쉽게 외부에 노출될 수 있다. 유럽 정세가 복잡해지는 지금 4개국에 둘러싸여 있는 이곳에서의 행위는 정치적으로 해석될 여지가 있다. 따라서 우리의 또다른 식민지인 모잠비크에서 새로운 방안을 모색해야 한다.

- ① 리비아를 식민 통치하였다.
 ② 하와이, 괌 등지를 병합하였다.
 ③ 이산들로나 전투에서 패배하였다.
 ④ 네덜란드에 무역 거점을 빼앗겼다.
 ⑤ 중국에 21개조 요구를 제시하였다.

11. (가)에 들어갈 내용으로 가장 적절한 것은? [3점]



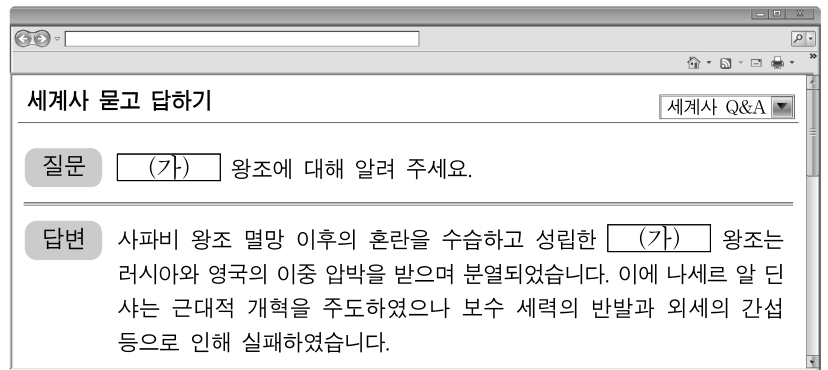
- ① 와하브 운동이 진행되었습니다.
- ② 인도 통치 개선법이 제정되었습니다.
- ③ 틸라크 등이 4대 강령을 채택했습니다.
- ④ 메넬리크 2세가 아도와 전투를 벌였습니다.
- ⑤ 동인도 회사가 벵골 지역의 통치권을 장악했습니다.

12. 다음 사원에 대한 설명으로 옳은 것은?



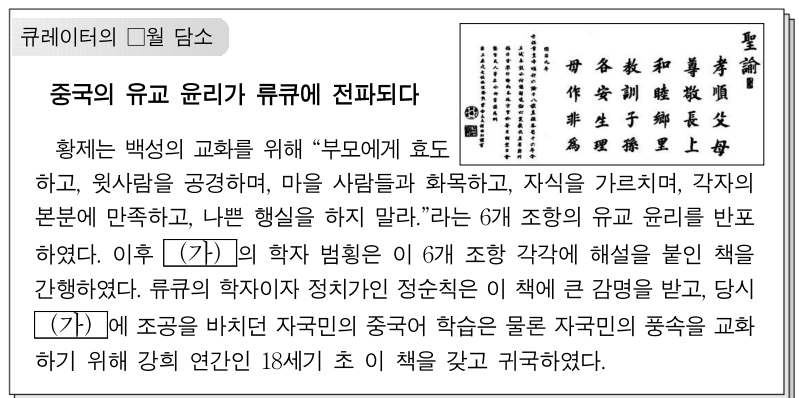
- ① 조로아스터교의 사원이었다.
- ② 샤자한의 명령으로 건설되었다.
- ③ 샤일렌드라 왕조 시기에 건립되었다.
- ④ 크메르족이 세운 제국에 의해 축조되었다.
- ⑤ 수코타이 왕조가 왕실 전용 사원으로 세웠다.

13. (가) 왕조에서 전개된 민족 운동으로 옳은 것은?



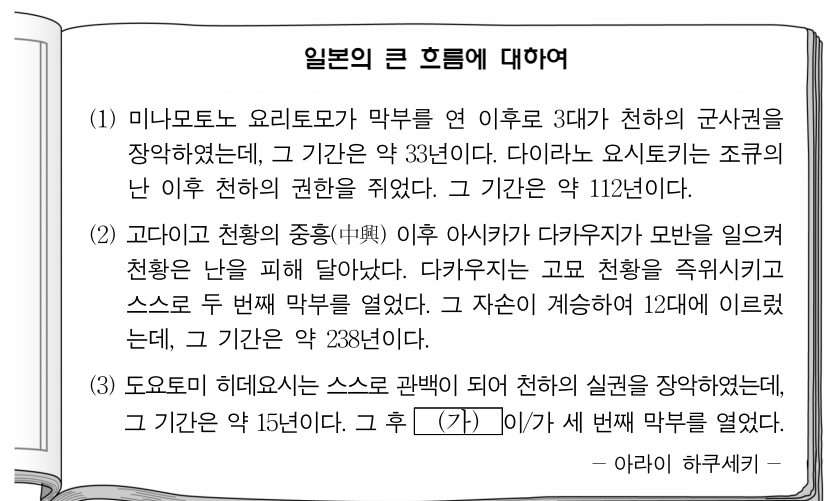
- ① 탄지마트가 단행되었다.
- ② 헤레로족이 봉기하였다.
- ③ 동유 운동이 추진되었다.
- ④ 담배 불매 운동이 일어났다.
- ⑤ 아라비 파샤가 혁명을 일으켰다.

14. (가) 왕조에 대한 설명으로 옳은 것은? [3점]



- ① 티베트, 신장 등의 번부를 간접 지배하였다.
- ② 위·촉·오의 삼국 분열 시대를 통일하였다.
- ③ 임진왜란 참전을 계기로 재정난이 가중되었다.
- ④ 거란(요)과 전연의 맹약을 맺고 물자를 제공하였다.
- ⑤ 군사·행정 조직인 천호제를 기반으로 정복 활동을 펼쳤다.

15. (가) 인물에 대한 설명으로 옳은 것은?



- ① 정한론을 주장하였다.
- ② 송의 동전을 수입하였다.
- ③ 에도(도쿄)를 중심으로 삼았다.
- ④ 도다이사 본존불을 제작하였다.
- ⑤ 전국(센고쿠) 시대를 통일하였다.

4 (세계사)


사회탐구 영역

16. 밑줄 친 ‘국제기구’에 대한 설명으로 옳은 것은? [3점]

자료는 중국 공산당 중앙위원회에서 발표된 보고서의 일부입니다. 당시 중국 공산당의 중앙위원들은 다음 보고서를 발표하며 대약진 운동의 추진을 공표하였습니다.

〈폴란드, 헝가리의 사태에 대한 보고서〉

최근 당 중앙위원들은 폴란드, 헝가리를 방문하였다. 이 국가들은 3년 전 서유럽 군사 기구에 대항하고자 국제기구를 만들었다. 하지만 서유럽에 비해 경제력이 부족하여 국제적인 위기에 쉽게 흔들리고 있었다. …(중략)… 국제적인 계급투쟁에서 살아남기 위해서는 경제력이 중요하다. 그렇기에 우리는 이제 새로운 경제 정책을 추진하고자 한다.



- ① 소련의 주도로 결성되었다.
- ② 평화 10원칙을 발표하였다.
- ③ 대서양 헌장에서 구상되었다.
- ④ 코민포름의 설립에 영향을 주었다.
- ⑤ 마스트리흐트 조약의 체결로 출범하였다.

17. 밑줄 친 ‘왕국’에서 볼 수 있는 모습으로 적절하지 않은 것은?

몇 년 전 다마스쿠스에서 온 이교도를 이베리아반도에서 격퇴해 달라고 요청했던 이후 다시 서신을 보냅니다. 그대의 왕국은 베드로의 교회와 백성들을 보호하라는 우리의 명령에 따를 것이라고 믿습니다. 우리는 더 이상 롬바르드족과의 싸움을 견딜 수 없습니다. 저들은 성 베드로의 모든 것을, 심지어 그대와 그대의 부친께서 우리에게 기증 하였던 영토마저 모두 빼앗아 가고 있습니다. 롬바르드족을 물리치라는 우리의 명령을 따른다면 지상에서의 영원한 명성과 천국에서의 영원한 삶을 얻게 될 것입니다.

그레고리우스 3세

- ① 베르됭 조약에 서명하는 관리
- ② 그리스 정교를 신봉하는 국왕
- ③ 로마 황제 대관식 소식을 듣는 청년
- ④ 투르·푸아티에 전투에서 활약하는 병사
- ⑤ 궁정 학교에서 고전을 필사하고 있는 학자

18. 밑줄 친 ‘두 강대국’의 공통점으로 옳은 것만을 <보기>에서 있는 대로 고른 것은? [3점]

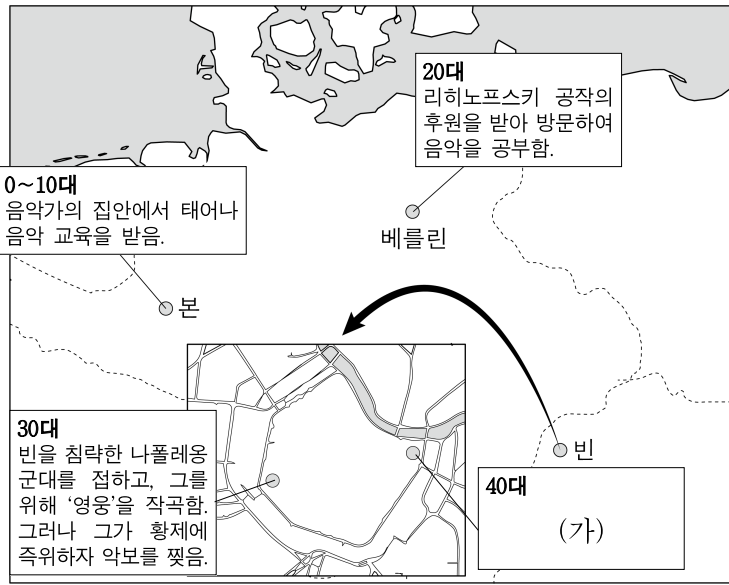
우리 두 강대국의 지도자는 핵전쟁 발발의 가능성을 인식하고 쿠바에서 미사일 기지 등 무기 시설을 폐기하여 이번 갈등을 마무리하기로 합의하였습니다. 또한 나, 케네디는 터키에서도 미사일을 제거하겠다고 발표하였습니다. 하지만 두 강대국의 군비 경쟁은 아직 끝난 것이 아닙니다. 이를 유념해야 합니다.

— <보 기> —

ㄱ. 카이로 회담에 참가하였다.
 ㄴ. 독일 분할 점령에 참여하였다.
 ㄷ. 국제 연합의 상임 이사국이였다.

- ① ㄱ ② ㄴ ③ ㄷ ④ ㄱ, ㄴ ⑤ ㄴ, ㄷ

19. (가)에 들어갈 내용으로 가장 적절한 것은? [3점]



0~10대 음악가의 집안에서 태어나 음악 교육을 받음.

20대 리히노프스키 공작의 후원을 받아 방문하여 음악을 공부함.

30대 빈을 침략한 나폴레옹 군대를 접하고, 그를 위해 ‘영웅’을 작곡함. 그러나 그가 황제에 즉위하자 악보를 찢음.

40대 (가)

▲ 작곡가 루트비히 판 베토벤의 주요 행적

- ① 워털루 전투에서 나폴레옹 군대와 대치함.
- ② 데카브리스트의 봉기를 진압하는 군인을 봄.
- ③ 혁명전쟁에서 프랑스 통령 정부 군대와 대결함.
- ④ 러시아가 크림 전쟁을 일으켰다는 신문 기사를 읽음.
- ⑤ 메테르니히가 국제회의를 개최하였다는 소식을 접함.

20. 밑줄 친 ‘그’에 대한 설명으로 옳은 것은?

난징의 중화민국 정부는 임시 부총통 리위안홍을 비롯한 각료를 선발하고 각 성의 대표들로 구성된 임시 참의원을 조직하는 등 체계를 확립하여 나갔다. 하지만 당시 화북 지역은 여전히 청 왕조가 다스리고 있었기 때문에, 그가 파견한 탕샤오이와 난징 정부가 파견한 우팅팡 사이에 화의 교섭이 진행되었다. 거기에 재정난까지 겹치며 청 왕조 타도를 우선시한 난징 정부는 그와 타협하여 청 황제를 퇴위시키고 그에게 임시 대총통직을 양보하는 방법을 모색하게 되었다. 이로써 청 황실 우대 등을 조건으로 청의 마지막 황제가 퇴위하였다.

- ① 시안 사건을 일으켜 항일 투쟁을 촉구하였다.
- ② 중체서용을 바탕으로 양무운동을 개시하였다.
- ③ 문화 대혁명이 발생하면서 정치적 위기를 겪었다.
- ④ 의회를 해산하고 황제 체제의 부활을 시도하였다.
- ⑤ 열강에 맞서기 위해 제1차 국공 합작을 추진하였다.

* 확인 사항
 ○ 답안지의 해당란에 필요한 내용을 정확히 기입(표기)했는지 확인 하시오.