

① 말 바꾸기

- 뽑는다 : C
- 중복해서 뽑는다: H ← H는 한번도 안뽑힐수 있음 가정한 것.
- 나열한다: !
- 뽑고 나열한다: C x ! (=P) (P랑 π는 중 쓰지마)

②  $1 \leq a \leq b \leq 10$  :  $10H_2$

$1 < a < b < 10$  :  $8C_2$

그럼  $1 \leq a < b \leq 10$  은?

$= (1 \leq a \leq b \leq 10) - (1 \leq a = b \leq 10)$

$= 10H_2 - 10H_1$

자유자재로 쓰기.

③ H 쓰고 싶는데 한 개도 못 쓰는 경우가 없다?

처음부터 개한테 하나 주고 시작하면 그다음부터

다 써도

이 6개는 못 쓰는 거라도 되잖아. (=H)

④ 원순열

하나라도 고정되면 원순열이 된다

ex) 10명이 원탁에 둘러앉는다 :  $9!$

10명이 원탁에 둘러앉아 A랑 B는 마주본다.

⑥ 이산확률 변수

$E(x) = \sum_{x_i} x_i P_i$

$V(x) = E(x^2) - \{E(x)\}^2$

$\Delta(x) = \sqrt{V(x)}$

$\oplus E(ax+tb) = aE(x)+tb$

$V(ax+tb) = a^2V(x)$

$\Delta(ax+tb) = |a|\Delta(x)$

$B(n, p)$  ← P의 확률로 n번 일어남.

$E(x) = np$

$V(x) = np(1-p)$

$\Delta(x) = \sqrt{np(1-p)}$

B(n, p) 라고 나오면 N(np, np(1-p)) 라고 쓰면 됨.

# 수능 D-1 수능 전 수험생 최중점점 (6평 ver)

과외자료인데 만든 게 아까워 뿌립니다.

3등급이라도 필요한 학생들!

문제 보고 뭐 부터 해야할 지 모르겠다면?

이번 모평 해설, 관련 개념, 공식들 등

한 번 훑고 가세요 

⑤ 확률 집합

• 합집합 :  $A \cup B$

• 여집합 :  $A^c$

• 드모르간 :  $(A \cup B)^c = A^c \cap B^c$

$(A \cap B)^c = A^c \cup B^c$

• 조건부확률 :  $P(B|A) = \frac{P(A \cap B)}{P(A)}$

• 서로독립인 사건 :  $P(A \cap B) = P(A) \times P(B)$

subject

title

check     

24학년도 6평 - @Jongganggirl - .-. -

date

2. 함수  $f(x) = x^2 - 2x + 3$ 에 대하여  $\lim_{h \rightarrow 0} \frac{f(3+h) - f(3)}{h}$ 의 값은? [2점]

- ① 1      ② 2      ③ 3      ④ 4      ⑤ 5

①  $\lim_{h \rightarrow 0} \frac{f(3+h) - f(3)}{h} = f'(3)$

②  $f'(x) = 2x - 2$

③  $f'(3) = 4$

# 2번에 쓰인 개념

$$\lim_{h \rightarrow 0} \frac{f(a+h) - f(a)}{h} = f'(a) \quad \text{h랑 상관 x}$$

Q. h자리가 같지 않으면? → 같게 만들어주기!

$$\lim_{h \rightarrow 0} \frac{f(5+2h) - f(5)}{3h} = \lim_{h \rightarrow 0} \frac{f(5+2h) - f(5)}{3h \times \frac{2}{3}} \times \frac{2}{3}$$

3h → 3h를 2h로 만들어주기

$$= \lim_{h \rightarrow 0} \frac{f(5+2h) - f(5)}{2h} \times \frac{2}{3} = f'(5) \times \frac{2}{3}$$

4. 실수 전체의 집합에서 연속인 함수  $f(x)$ 가

$$\lim_{x \rightarrow 1} f(x) = 4 - f(1)$$

을 만족시킬 때,  $f(1)$ 의 값은? [3점]

- ① 1      ② 2      ③ 3      ④ 4      ⑤ 5

$$f(1) = 4 - f(1)$$

$$2f(1) = 4$$

$$f(1) = 2$$

# 4에 쓰인 개념

<  $x=a$ 에서 연속인 함수  $f(x)$  >

$$\lim_{x \rightarrow a^-} f(x) = \lim_{x \rightarrow a^+} f(x) = f(a)$$

둘을 한 번에 쓰면  $\lim_{x \rightarrow a}$

문제 적용

- 실수 전체에서  $f(x)$ 가 연속이니까 당연히  $x=1$ 에서도 연속.
- $x=1$ 에서 연속이니까  $\lim_{x \rightarrow 1} f(x) = f(1)$

5. 다항함수  $f(x)$ 에 대하여 함수  $g(x)$ 를

$$g(x) = (x^3 + 1)f(x)$$

라 하자.  $f(1) = 2$ ,  $f'(1) = 3$ 일 때,  $g'(1)$ 의 값은? [3점]

- ① 12      ② 14      ③ 16      ④ 18      ⑤ 20

# 5에 쓰인 개념

&lt; 곱의 미분 &gt;

$$f(x) \cdot g(x) \rightarrow f'(x)g(x) + f(x)g'(x)$$

\* 주어진 hint 부터 넣기.

①  $x$ 에 1 넣기 :  $g(1) = 4f(1) = 8$

②  $f'(1) = 3$  쓰려면  $f'(x)$ 부터 필요. 식 양변 미분

$$g'(x) = 3x^2 f(x) + (x^3 + 1)f'(x) \rightarrow \text{모든 } x \text{에 1 넣기}$$

$$g'(1) = 3f(1) + 4f'(1)$$

$$= 3 \times 2 + 4 \times 3 = 18$$

6.  $\cos\theta < 0$ 이고  $\sin(-\theta) = \frac{1}{7}\cos\theta$ 일 때,  $\sin\theta$ 의 값은? [3점]

- ①  $-\frac{3\sqrt{2}}{10}$       ②  $-\frac{\sqrt{2}}{10}$       ③ 0
- ④  $\frac{\sqrt{2}}{10}$       ⑤  $\frac{3\sqrt{2}}{10}$

①  $\cos\theta < 0 \rightarrow$  범위 잡으라는 뜻.

환 [ 

S	A $\rightarrow$ 다 + 나까 x
t	C $\rightarrow$ cos + 나까 x

 $\Rightarrow \theta$ : 2, 3사분면의 각.

②  $\sin(-\theta) = -\sin\theta = \frac{1}{7}\cos\theta$   
 $\sin\theta$ 는 원점대칭       $\sin\theta$ 랑  $\cos\theta$ 랑 부호 반대

③ 한 식에  $\sin, \cos$  둘 다 나오면  $\therefore \sin\theta > 0$

$\sin^2\theta + \cos^2\theta = 1$  이용하기.  $\Rightarrow$  2사분면 각

$\rightarrow -\sin\theta = \frac{1}{7}\cos\theta$  양변 제곱

$\sin^2\theta = \frac{1}{49}\cos^2\theta$

여기서,  $\sin\theta \rightarrow \cos\theta$  or  $\cos\theta \rightarrow \sin\theta$   
문제에서  $\sin\theta$  물어봤으니까  $\cos\theta \rightarrow \sin\theta$

$\sin^2\theta = \frac{1}{49}(1 - \sin^2\theta)$

$49\sin^2\theta = 1 - \sin^2\theta$

$50\sin^2\theta = 1$

$\sin^2\theta = \frac{1}{50}, \sin\theta = \pm \frac{\sqrt{2}}{10}$

$\theta$ 가 2사분면 각이니까

$\therefore \sin\theta = \frac{\sqrt{2}}{10}$

#6번에 쓰인 개념

< 삼각함수 공식 > 지금 외우자!

① 대칭

$\sin(-\theta) = -\sin\theta$   
 $\tan(-\theta) = -\tan\theta$  } 원점대칭

$\cos(-\theta) = \cos\theta$  - y축 대칭

② 값의 부호 & 짧은 공식

$\sin$	↑	all	$\theta$
$\tan$	↓	cos	

 &  $\tan\theta = \frac{\sin\theta}{\cos\theta}$   
 $\sin^2\theta + \cos^2\theta = 1$

③ 주기

$\sin(2\pi + \theta) = \sin\theta$   
 $\cos(2\pi + \theta) = \cos\theta$  } 주기가  $2\pi$

$\tan(n\pi + \theta) = \tan\theta$  - 주기가  $\pi$

④  $(\pi \pm \theta)$

$\theta$ 를 '아주 작은 각'으로 생각하고 물어뜯고

ex)  $\sin(\pi + \theta) \left( \begin{array}{c} \sin \uparrow \text{all} \\ \tan \downarrow \cos \end{array} \Rightarrow \right) = -\sin\theta$

⑤  $(\frac{\pi}{2} \pm \theta)$

④랑 똑같이 한 후,  $\sin\theta \leftrightarrow \cos\theta$

부호! 아까 먼저!  $\tan\theta \rightarrow \frac{1}{\tan\theta}$

ex)  $\sin(\frac{1}{2}\pi + \theta) \left( \begin{array}{c} \sin \uparrow \text{all} \\ \tan \downarrow \cos \end{array} \Rightarrow \right) = \cos\theta$   
 $\sin\theta$ 가 음 부호

⑥  $A+B = \frac{\pi}{2}$ 이면 다음이 성립

- $\sin^2 A + \sin^2 B = 1$
- $\cos^2 A + \cos^2 B = 1$
- $\tan A \times \tan B = 1$

⑦ 삼각함수 그래프의 변형

• 최대, 최소, 주기부터 구하기

ex)  $a \frac{\sin}{\cos} b(x + \frac{c}{b}) + d$

1) 최대:  $|a| + d$

2) 최소:  $-|a| + d$

3) 주기:  $\frac{2\pi}{|b|}$

4) 위아래로  $|a|$ 배, 양쪽으로  $\frac{1}{|b|}$ 배,  $x$ 축으로  $-\frac{c}{b}$ 만큼,  $y$ 축으로  $d$ 만큼.

7. 상수  $a(a > 2)$ 에 대하여 함수  $y = \log_2(x-a)$ 의 그래프의 점근선이 두 곡선  $y = \log_2 \frac{x}{4}$ ,  $y = \log_{\frac{1}{2}} x$ 와 만나는 점을 각각 A, B라 하자.  $\overline{AB} = 4$ 일 때,  $a$ 의 값은? [3점]

- ① 4      ② 6      ③ 8      ④ 10      ⑤ 12

\* 문제에서 시키는 대로. 순서대로 구하기.

1) 점근선 구하고 → 2) 두곡선과 만나는 점 AB 구하고  
→ 3)  $\overline{AB} = 4$  이용하면  $a$  구할 수 있겠지.

①  $y = \log_2(x-a)$ 의 점근선 :  $x = a$

② 점근선이 두 곡선과 만나는 점  
이 점은 점근선 위의 점!  
근데 점근선이  $x = a$ !  
∴ 점의 x좌표는  $a$ 로 고정

A  $(a, \log_2 \frac{a}{4})$ , B  $(a, \log_{\frac{1}{2}} a)$

③ A, B의 x좌표 같으니까 y좌표끼리 빼주면  
두점 사이 길이.

$$\begin{aligned} \overline{AB} &= \log_2 \frac{a}{4} - \log_{\frac{1}{2}} a \\ &= \log_2 a - \log_2 4 + \log_2 a \\ &= 2\log_2 a - 2 = 4 \rightarrow \text{문제에서 줌} \end{aligned}$$

$$2\log_2 a = 6$$

$$\log_2 a = 3$$

$$= \log_2 2^3 = \log_2 8 \quad \therefore a = 8$$

#7에 쓰인 개념

<지수, 로그 함수 점근선>

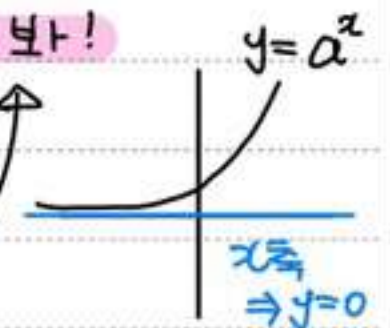
• 지수는 점근선이  $y = \sim$  꼴! y만 보!

ex)  $y = a^x$  점근선  $y = 0$

$y = a^x + b$  점근선  $y = b$

$y = a^{x-b}$  점근선  $y = 0$

$y - 3 = 2^{x+1} + 2 \rightarrow y = 3 + 2 = 5$



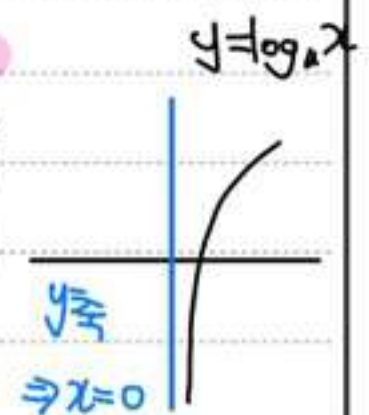
• 로그는 점근선이  $x = \sim$  꼴! x만 보!

ex)  $y = \log_a x$  점근선  $x = 0$

$y = \log_a(x-b)$  점근선  $x = b$

$y = \log_a x + b$  점근선  $x = 0$

$y - 1 = \log_2(x-3) \rightarrow x = 3$



<두점 사이의 거리>

\* A  $(a_1, a_2)$  B  $(b_1, b_2)$  일 때

• 기본공식:  $\sqrt{(b_1 - a_1)^2 + (b_2 - a_2)^2}$

•  $a_1 = b_1$  일 때:  $|b_2 - a_2|$  (둘중 더 큰 거 뭘지 알면)

•  $a_2 = b_2$  일 때:  $|b_1 - a_1|$  (전대값 생각)

<로그 기본공식>

① 정의:  $\log_a n = x$

$a > 0, a \neq 1, n > 0, x: \text{실수}$

②  $\log_a 1 = 0$

③  $\log_a a = 1$

④  $\log_a MN = \log_a M + \log_a N$

⑤  $\log_a \frac{M}{N} = \log_a M - \log_a N$

⑥  $\log_a M^k = k \log_a M$

⑦  $\log_a^k M = \frac{1}{k} \log_a M$

⑧  $\log_a b = \frac{\log_c b}{\log_c a}$

⑨  $\log_a b = \frac{1}{\log_b a}$

⑩  $\log_a b \times \log_b a = 1$

⑪  $a^{\log_c b} = b^{\log_c a}$

8. 두 곡선  $y=2x^2-1$ ,  $y=x^3-x^2+k$ 가 만나는 점의 개수가 2가 되도록 하는 양수  $k$ 의 값은? [3점]

- ① 1      ② 2      ③ 3      ④ 4      ⑤ 5

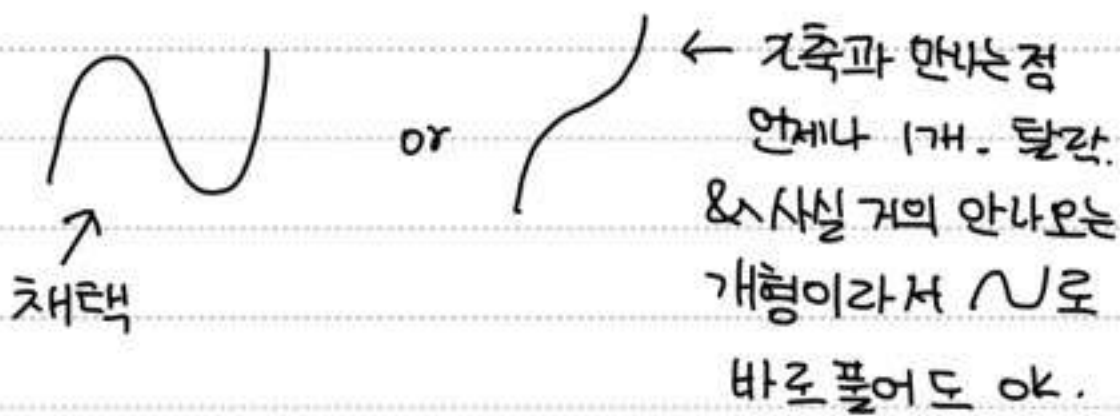
① 두 함수가 만난다 → 연결하라는 뜻.

(두 함수 다  $y = \sim$  라서 연결 가능)

$$2x^2 - 1 = x^3 - x^2 + k$$

$$x^3 - 3x^2 + k + 1 = 0 \rightarrow g(x) \text{라고 부르겠습니다}$$

② 개형 그릴 수 있으면 그리기. (최고차항계수, 3차함수)



③ 여기까지 해석 & 정리

곡선 ①과 곡선 ②가 두 점에서 만난다.


곡선 두개 쓰기 어려워서 연결.

→ 곡선 ① - 곡선 ② = 0 이 두 점에서 만난다.  $(g(x))$

과  $x$ 축이 두 점에서 만난다.

이 두 근을 갖는다!

④ 이 두 근을 갖으려면



뭐가 됐든 실근 1개, 중근 1개. & 중근에서 기울기 0

⑤ 기울기 = 0 인 곳 찾기 위해  $g'(x)$  미분.

$$g'(x) = 3x^2 - 6x = 0$$

$$= 3x(x-2) = 0$$

즉,  $x$ 는 0 or 2에서 기울기 0 &  $g(x)$ 의 중근

⑥ 중근도 근이니까  $g(x)$ 에 0, 2 넣으면 0 나와야 함.

$$g(0) = k + 1 = 0 \rightarrow k = -1$$

$$g(2) = 8 - 12 + k + 1 = 0 \rightarrow k = 3$$

⑦ 문제에서 양수  $k$  구하라고 함.  $\therefore k = 3$

### #8에 쓰인 개념

< 함수 기본 > → 꼭 이해하기.

$x^2 - 5x + 6 = x - 2$  라는 함수가 있다고 치자.

1) 이 함수는 ①  $y = x^2 - 5x + 6$  과 ②  $y = x - 2$  라는 두 함수의 연결이다.

2)  $x^2 - 5x + 6 = x - 2$  는  $x^2 - 4x + 4 = 0$  으로 ~~쓰는~~

3) 그런데  $x^2 - 4x + 4 = 0$  은

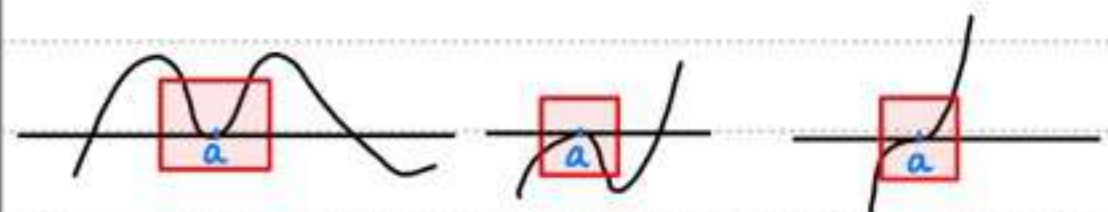
①  $y = x^2 - 4x + 4$  와 ②  $y = 0$  이라는 두 함수의 연결이다. 이때  $y = 0$  은  $x$ 축이다.

4) 따라서  $x^2 - 4x + 4 = 0$  은 ①  $y = x^2 - 4x + 4$  와 ②  $x$ 축이 만나는 점이다.

5) 이 함수는 1)에서 출발한 함수니까 1)의 답이 4)의 답과 같다.

### < 그래프 팁 >

어떤 그래프  $f(x)$  가



이런 식으로  $x = a$ 에서 ①  $x$ 축에 닿고

②  $a$ 에서 중근이면

$$f(a) = 0, f'(a) = 0 \text{ 이다.}$$

(역도 성립한다)

Q. 최고차항계수가 1인 이차함수  $f(x)$ 에 대하여 다음조건을 만족할 때,  $f(3)$ 의 값을 구하시오.

7.  $f(2) = 0$

L.  $f'(2) = 0$

A. 7 & L에 의해  $f(x)$ 는 2에서 중근이니까

$$f(x) : f(x) = (x-2)^2$$

$$\therefore f(3) = 1$$

9. 수열  $\{a_n\}$ 이 모든 자연수  $n$ 에 대하여

$$\sum_{k=1}^n \frac{1}{(2k-1)a_k} = n^2 + 2n$$

↳ 이만큼도 수열!

을 만족시킬 때,  $\sum_{n=1}^{10} a_n$ 의 값은? [4점]

- ①  $\frac{10}{21}$     ②  $\frac{4}{7}$     ③  $\frac{2}{3}$     ④  $\frac{16}{21}$     ⑤  $\frac{6}{7}$

① 수열의 합이 식으로 나와 있으면  $S_n - S_{n-1} = a_n$

을 우선적으로 생각하자. 단,  $n \geq 2$  문제에서

$$\sum_{k=1}^n \frac{1}{(2k-1)a_k} = S_n = n^2 + 2n$$

문제에서  
 $\sum(\text{이항}) = (\text{이항})$   
이렇게 돼 있으면  
여기  $a_n$ !

$$S_{n-1} = (n-1)^2 + 2(n-1)$$

문자에  
꼭지마.

이거 그냥  $a_n$ 으로

$$\frac{1}{(2n-1)a_n} = 2n+1 \quad (n \geq 2)$$

사면 틀림. →

$$S_n = \sum_{k=1}^n a_k \text{ 일때만 } S_n - S_{n-1} = a_n.$$

② 식 정리  $\frac{1}{(2n-1)a_n} = 2n+1$

$$a_n = \frac{1}{(2n-1)(2n+1)} \quad \downarrow \text{부분분수}$$

$$= \frac{1}{2} \left( \frac{1}{2n-1} - \frac{1}{2n+1} \right) \quad (n \geq 2)$$

\*  $n=1$  일 때,

$$i) \sum_{k=1}^1 \frac{1}{(2k-1)a_k} = \frac{1}{a_1} = 1^2 + 2 = 3 \quad \therefore a_1 = \frac{1}{3}$$

ii) 우리가 구한  $a_n$ 에 1 넣기.  $a_1 = \frac{1}{3}$  똑같은.

$$\therefore a_n = \frac{1}{2} \left( \frac{1}{2n-1} - \frac{1}{2n+1} \right) \quad (n \geq 1)$$

(만약에 달랐으면  $a_1$ 은 따로 더해줘야.)

③ 문제답 구하기

$$\sum_{n=1}^{10} a_n = \sum_{n=1}^{10} \frac{1}{2} \left( \frac{1}{2n-1} - \frac{1}{2n+1} \right)$$

$$= \frac{1}{2} \left( \frac{1}{1} - \frac{1}{3} + \frac{1}{3} - \frac{1}{5} + \dots + \frac{1}{19} - \frac{1}{21} \right)$$

$$= \frac{1}{2} \times \frac{20}{21}$$

$$= \frac{10}{21}$$

#9에  $n$ 인 개념

$$\langle S_n - S_{n-1} = a_n \rangle$$

$$\sum_{k=1}^n a_k = S_n = a_1 + a_2 + a_3 \dots a_{n-1} + a_n$$

$$\sum_{k=1}^{n-1} a_k = S_{n-1} = a_1 + a_2 + a_3 \dots a_{n-1}$$

$$\begin{cases} S_n - S_{n-1} = a_n & (n \geq 2) \\ a_1 = S_1 \end{cases}$$

↳ 이유:  $S_{n-1}$  식에서  $n=1$  넣으면  $S_0$  인데. 이번재항은 없으니까.

$a_1$ 은

우리가 구한  $a_n$ 에 1 넣지 x

주어진  $S_n$ 에 1 넣어 구하기 o

\* 문자에 꼭지 말기.

$$\text{ex) } \sum_{k=1}^n (k-1)a_k = S_n = 0 + \dots + (n-1)a_n$$

$$\sum_{k=1}^{n-1} (k-1)a_k = S_{n-1} = 0 + \dots + (n-2)a_{n-1}$$

$$\begin{cases} S_n - S_{n-1} = (n-1)a_n & (n \geq 2) \\ a_1 = S_1 \end{cases}$$

<부분분수>

$$\frac{c}{ab} = c \times \frac{1}{b-a} \left( \frac{1}{a} - \frac{1}{b} \right)$$

\* tip! 어차피  $ab=ba$  인데 뒤에서 앞에게 빼버려야 미리 큰수를 b자리에, 작은 수를 a자리에 써 놓기!

<수열의 합 소개형·약분형 tip>

① 소개형 넣는 건 맨앞-맨뒤 대칭이다.

$$\text{ex) } 0/0 // 1/1 // 0/0$$

∴ 앞 문제처럼 한세트에 두식에 넣는 경우

$(n\text{개 } 1\text{넣기}) - (n\text{개 } 1\text{넣기}) + (n\text{개 } 2\text{넣기}) - (n\text{개 } 2\text{넣기})$   
이런식으로 갈다가 마지막에  $-(n\text{개 } n\text{넣기})$ 로 끝내면 대칭 틀어짐. 꼭 마지막까지 둘 다 넣어  $(n\text{개 } n\text{넣기}) - (n\text{개 } n\text{넣기})$  다 써주기.

② 약분형도 마찬가지로 끝까지 한세트에 넣어야 하는거 앞뒤 둘 다 넣어주기.

10. 양수  $k$ 에 대하여 함수  $f(x)$ 는

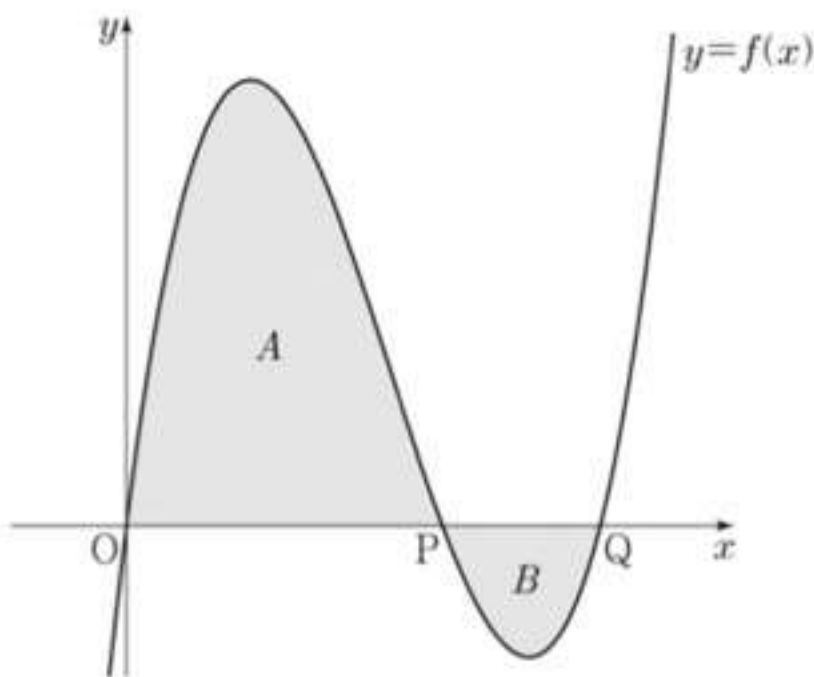
$$f(x) = kx(x-2)(x-3) = k(x^3 - 5x^2 + 6x)$$

이다. 곡선  $y=f(x)$ 와  $x$ 축이 원점  $O$ 와 두 점  $P, Q$  ( $OP < OQ$ )에서 만난다. 곡선  $y=f(x)$ 와 선분  $OP$ 로 둘러싸인 영역을  $A$ , 곡선  $y=f(x)$ 와 선분  $PQ$ 로 둘러싸인 영역을  $B$ 라 하자.

$$(A \text{의 넓이}) - (B \text{의 넓이}) = 3$$

일 때,  $k$ 의 값은? [4점]

- ①  $\frac{7}{6}$     ②  $\frac{4}{3}$     ③  $\frac{3}{2}$     ④  $\frac{5}{3}$     ⑤  $\frac{11}{6}$



①  $f(x) = kx(x-2)(x-3)$

$\therefore P(2,0), Q(3,0)$

②  $A$  넓이 :  $y=f(x)$ 가  $y=0$ 보다 위에 있음.

$$\int_0^P f(x) - 0 \, dx$$

$B$  넓이 :  $y=0$ 이  $y=f(x)$ 보다 위에 있음

$$\int_P^Q 0 - f(x) \, dx$$

③  $(A \text{ 넓이}) - (B \text{ 넓이}) = 3$

$$\int_0^P f(x) \, dx - \int_P^Q -f(x) \, dx$$

$$= \int_0^P f(x) \, dx + \int_P^Q f(x) \, dx$$

$$= k \int_0^2 (x^3 - 5x^2 + 6x) \, dx + k \int_2^3 (x^3 - 5x^2 + 6x) \, dx$$

$$= k \left[ \frac{1}{4}x^4 - \frac{5}{3}x^3 + 3x^2 \right]_0^2 + k \left[ \frac{1}{4}x^4 - \frac{5}{3}x^3 + 3x^2 \right]_2^3$$

$$= k \left( 4 - \frac{40}{3} + 12 + \frac{81}{4} - 45 + 27 - 4 + \frac{40}{3} - 12 \right)$$

$$= k \cdot \frac{9}{4} = 3 \quad \therefore k = \frac{4}{3}$$

#10에 쓰인 개념

< 정적분의 활용 : 넓이 >

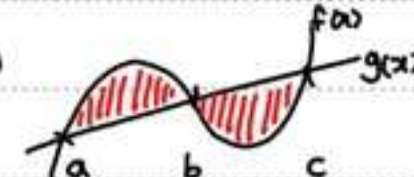
• 그냥 정적분 :  $+$ ,  $-$  개념이 있음  
 넓이 : 넓이는 항상  $+$  ] 절댓값 붙여야함

• 절댓값 푸는 법

정적분은 특정 구간(구간 두개)에서 두 그래프 사이의 넓이.

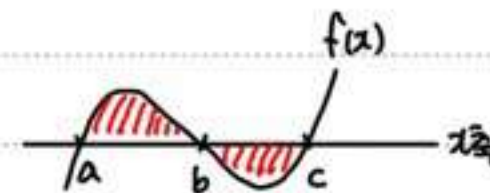
$\therefore$  두 그래프 중 (위에 있는 그래프) - (아래있는 그래프)

ex)



$$\Rightarrow \int_a^c |f(x) - g(x)| \, dx$$

$$= \int_a^b f(x) - g(x) \, dx + \int_b^c g(x) - f(x) \, dx$$



\*  $x$ 축은  $y=0$ !

$$\Rightarrow \int_a^c |f(x) - 0| \, dx \quad (= \int_a^c f(x) \, dx)$$

$$= \int_a^b f(x) - 0 \, dx + \int_b^c 0 - f(x) \, dx$$

$$= \int_a^b f(x) \, dx - \int_b^c f(x) \, dx$$

$\rightarrow$  구간 끊겨 있으면 꼭 구간마다 위아래 비교해서 식 따로따로 써 주기!

$\rightarrow$  그려려면 그림을 그려야 함.

문제에 그림 안 나와도 식 정리해서 그림그리기.

Q.  $y = x^3 + 2x^2 + x + 3$  과

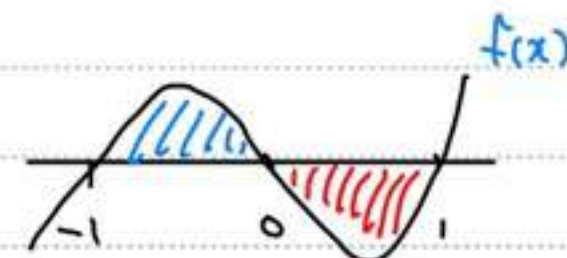
$y = 2x^2 + 2x + 3$  으로 둘러싸인 넓이?

A. 두 식 각각 그리기 X. 편집하기.

$$x^3 + 2x^2 + x + 3 = 2x^2 + 2x + 3$$

$$x^3 - x = 0 \quad \leftarrow f(x) \text{라고 하겠음}$$

$$x(x+1)(x-1) = 0$$



$$\int_{-1}^0 f(x) - 0 \, dx + \int_0^1 0 - f(x) \, dx$$

$$= \int_{-1}^0 (x^3 - x) \, dx - \int_0^1 (x^3 - x) \, dx$$

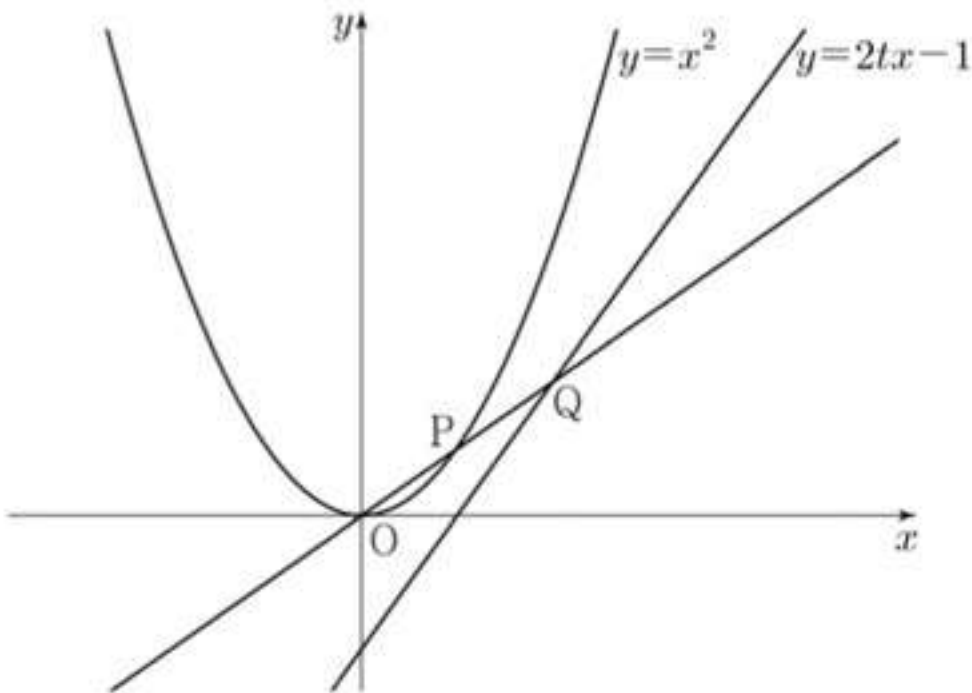
$$= \left[ \frac{1}{4}x^4 - \frac{1}{2}x^2 \right]_{-1}^0 - \left[ \frac{1}{4}x^4 - \frac{1}{2}x^2 \right]_0^1$$

$$= -\left(\frac{1}{4} - \frac{1}{2}\right) - \left(\frac{1}{4} - \frac{1}{2}\right)$$

$$= \frac{1}{4} + \frac{1}{4} = \frac{1}{2}$$

11. 그림과 같이 실수  $t (0 < t < 1)$ 에 대하여 곡선  $y = x^2$  위의 점 중에서 직선  $y = 2tx - 1$ 과의 거리가 최소인 점을 P라 하고, 직선 OP가 직선  $y = 2tx - 1$ 과 만나는 점을 Q라 할 때,

$\lim_{t \rightarrow 1^-} \frac{PQ}{1-t}$ 의 값은? (단, O는 원점이다.) [4점]



- ①  $\sqrt{6}$     ②  $\sqrt{7}$     ③  $2\sqrt{2}$     ④ 3    ⑤  $\sqrt{10}$

① 일단 글 읽고, 그림보고, 딱히 보이는 거 (ex. 피타고라스)

없으면 좌표부터 잡기.

좌표 잡는 기준 :: 힌트 많은 애부터.

· 논리 순서상 먼저인 애부터.

ex) P에 따라 Q 변하면 P부터.

· 딱히 잘 모르겠으면 그나마 쉬운 애부터

문제) P가 힌트도 더 많고, P에 따라 Q 변함.

→ P부터 잡는다.

② P: 1)  $y = x^2$  위의 점

2)  $y = 2tx - 1$ 과 거리가 최소인 점

→ 기울기가 2인 직선 위의 점 (→ 개별참고)

→  $y = x^2$ 의 기울기:  $2x$

자  $t$ 면 모든 게 성립! ∴  $P(t, t^2)$

③ 직선 OP =  $tx$

④ Q:  $tx = 2tx - 1$

$tx = 2tx - 1 \Rightarrow t = \frac{1}{t} \Rightarrow Q(\frac{1}{t}, 1)$

⑤  $PQ = \sqrt{(t - \frac{1}{t})^2 + (t^2 - 1)^2} = \sqrt{t^4 - t^2 + \frac{1}{t^2} - 1}$

(점과점사이거리공식)

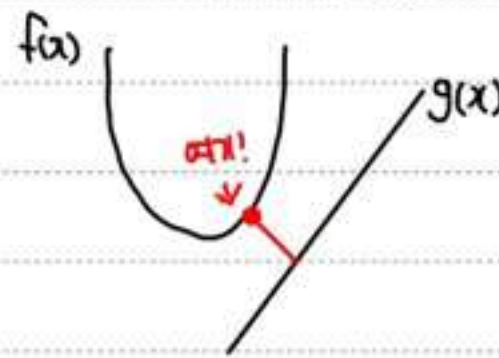
아래랑이 계산 안되니까  $\frac{1}{t^2}$  곱하기

$= \sqrt{\frac{1}{t^2}(t^6 - t^4 + 1 - t^2)}$   
 $= \sqrt{\frac{(t-1)^2}{t^2} \times (t^4 + 2t^3 + 2t^2 + 2t + 1)}$

⑥  $\lim_{t \rightarrow 1^-} \frac{1}{1-t} \times \sqrt{\frac{(t-1)^2}{t^2}} \times \sqrt{t^4 + 2t^3 + 2t^2 + 2t + 1} = \frac{\sqrt{1+2+2+1}}{1} = 2\sqrt{2}$

#11에 쓰인 개념

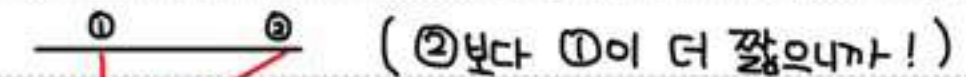
<거리가 최소인 점>



f(x) 위의 점 중에서 g(x)와의 거리가 최소인 점 = f(x) 위의 점 중에서

g(x)랑 같은 기울기를 갖게 하는 점

이유: 거리가 최소가 되려면 g(x)에서 수직으로 올라가야 됨



(2)보다 (1)이 더 짧으니까!

그러면 g(x)랑 f(x) 위의 점에서의 직선의 기울기가 같아야 함. (=평행해야 함)

< ⑥ 풀이 때 -가 아니고 + 인지? >

비교 1)  $t \times \frac{1}{1-t} = -1$

2)  $\lim_{t \rightarrow 1^-} t \times \frac{1}{1-t} = -1$

↓  $1-t \rightarrow 1-1^- = 0$  에서 보다 작은 수에서 1 빼니까 ⊕

3)  $\lim_{t \rightarrow 1^-} \sqrt{(t-1)^2} \times \frac{1}{1-t} = 1$

↓ 제곱하면 ⊕ 거기에서 근의 식도 ⊕



12.  $a_2 = -4$ 이고 공차가 0이 아닌 등차수열  $\{a_n\}$ 에 대하여 수열  $\{b_n\}$ 을  $b_n = a_n + a_{n+1} (n \geq 1)$ 이라 하고, 두 집합  $A, B$ 를

$$A = \{a_1, a_2, a_3, a_4, a_5\}, \quad B = \{b_1, b_2, b_3, b_4, b_5\}$$

라 하자.  $n(A \cap B) = 3$ 이 되도록 하는 모든 수열  $\{a_n\}$ 에 대하여  $a_{20}$ 의 값의 합은? [4점]

- ① 30      ② 34      ③ 38      ④ 42      ⑤ 46

①  $a_n$ 에 따라  $b_n$  달라지니까  $a_n$ 부터 잡기.

$$a_n = a + (n-1)d$$

$$a_2 = a + d = -4 \rightarrow a = -d - 4$$

②  $a$ 에  $-d-4$  넣어서  $a_n, b_n$  써 주면

n	$a_n$	$b_n$
1	$-4 - d$	$-8 - d$
2	$-4$	$-8 + d$
3	$-4 + d$	$-8 + 3d$
4	$-4 + 2d$	$-8 + 5d$
5	$-4 + 3d$	$-8 + 7d$

$\downarrow$                        $\downarrow$   
 공차 d                      공차 2d

③  $n(A \cap B) = 3$       뜻: A랑 B중에 겹치는거 3개

즉, 공차가 d인  $a_n$ 의 원소 다섯개 중에서 공차가 2d인  $b_n$ 의 원소가 세개 있음.  $a_n$ 에서 공차가 2d 이려면 두칸씩 건너면 됨.  $b_n$ 에서는 한칸씩 건너면 됨.

$\therefore n(A \cap B) = 3$  인  $a_n$

n	$a_n$	$b_n$
1	$-4 - d$	$-8 - d$
2	$-4$	$-8 + d$
3	$-4 + d$	$-8 + 3d$
4	$-4 + 2d$	$-8 + 5d$
5	$-4 + 3d$	$-8 + 7d$

이렇게 여야 두칸씩.

① 이렇게 세개거나  
② 이렇게 세개거나  
③ 이렇게 세개거나

▷ 원 말이나면, 표에 공차d인  $a_n$  5개랑 공차2d인  $b_n$  5개중에 3개가 겹쳐야 돼. 그럼 그 3개 원소끼리는 공차가 2d 여야겠지? (최소공배수 생각해봐. 3의 배수랑 6의 배수랑 3~13 안에서 두번 겹쳐야 되면 6이더크니까 6이랑 12가 겹치는 거잖아. 같은 원리임.) 근데  $a_n$ 은 원래 공차가 d라서 2d를 추출하려면 1번, 3번, 5번 골라야 되고,  $b_n$ 은 원래 공차가 2d니까 그냥 연속하는 세개 고르면 됨. 그래서  
 ①  $a_1, a_3, a_5 = b_1, b_2, b_3$     ②  $a_1, a_3, a_5 = b_2, b_3, b_4$   
 ③  $a_1, a_3, a_5 = b_3, b_4, b_5$     주 놓고 핑크색만 볼 거.

④ ① 경우:  $-4 - d = -8 - d \dots (x)$

② 경우:  $-4 - d = -8 + d \dots d = 2, a_{20} = 32$

③ 경우:  $-4 - d = -8 + 3d \dots d = 1, a_{20} = 14$

⑤  $32 + 14 = 46$

13. 그림과 같이

①  $\overline{BC} = 3, \overline{CD} = 2, \cos(\angle BCD) = -\frac{1}{3}, \angle DAB > \frac{\pi}{2}$

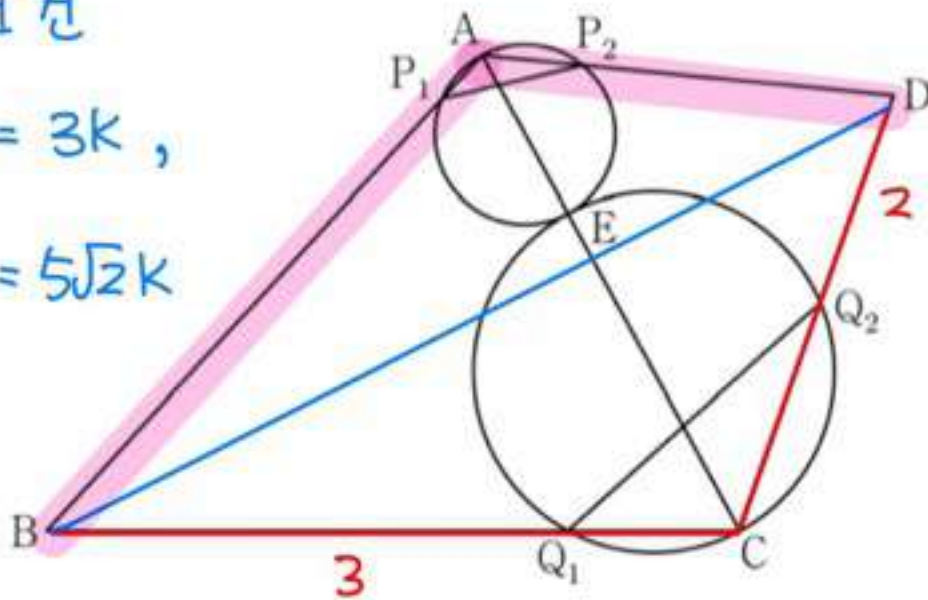
인 사각형 ABCD에서 두 삼각형 ABC와 ACD는 모두

③ 세각삼각형이다. 선분 AC를 1:2로 내분하는 점 E에 대하여 선분 AE를 지름으로 하는 원이 두 선분 AB, AD와 만나는 점 중 A가 아닌 점을 각각  $P_1, P_2$ 라 하고, 선분 CE를 지름으로 하는 원이 두 선분 BC, CD와 만나는 점 중 C가 아닌 점을 각각  $Q_1, Q_2$ 라 하자.

$\overline{P_1P_2} : \overline{Q_1Q_2} = 3 : 5\sqrt{2}$  이고 삼각형 ABD의 넓이가 2일 때,  $\overline{AB} + \overline{AD}$ 의 값은? (단,  $\overline{AB} > \overline{AD}$ ) [4점]

▷ 이런 건

$\overline{P_1P_2} = 3k,$   
 $\overline{Q_1Q_2} = 5\sqrt{2}k$



- ①  $\sqrt{21}$    ②  $\sqrt{22}$    ③  $\sqrt{23}$    ④  $2\sqrt{6}$    ⑤ 5

① 문제 천천히 읽으면서 표시할 것 표시하기 ( $\overline{BC}, \overline{BD}$ )

② 문제에서  $\cos \angle BCD = -\frac{1}{3}$  이라고 하는데 이 각은

$\triangle BCD$ 에서 만든 각이니가 **보조선 BC** 크기

$\triangle BCD$ 에서 구할 수 있는 것 구하기.

$\overline{BD}^2 = 2^2 + 3^2 - 2 \times 2 \times 3 \times \cos \angle BCD = 17. \therefore \overline{BD} = \sqrt{17}$

③ 딱히 의미 없는 정보는 그냥 무시 ~ 하고 넘어가기

(보통 문제가 정의되기 위해 필요한 조건. 문제 풀 때 신경 x)

④  $\overline{AB} + \overline{AD}$  근처 봐.  $\triangle ABD = \frac{1}{2} \times \overline{AB} \times \overline{AD} \times \sin \angle BAD = 2$

⑤  $\cos \angle BCD = -\frac{1}{3} \rightarrow \sin \angle BCD = \frac{2\sqrt{2}}{3}$

⑥  $\triangle Q_1Q_2C \rightarrow \frac{\overline{Q_1Q_2}}{\sin \angle BCD} = 2R$

$\rightarrow \frac{5\sqrt{2}k}{\frac{2\sqrt{2}}{3}} = 2R \rightarrow \frac{15}{2}k = \overline{EC}$

$\rightarrow \overline{AE} = \frac{15}{4}k$

⑦  $\triangle P_1P_2A \rightarrow \frac{\overline{P_1P_2}}{\sin \angle BAD} = 2R = \frac{15k}{4} = \frac{3k}{\sin \angle BAC}$

$\therefore \sin \angle BAC = \frac{4}{5}$

⑧  $\sin \angle BAD = \frac{4}{5}$  니까 ④에서  $\overline{AB} \times \overline{AD} = 5$   
 $\hookrightarrow \cos \angle BAD = -\frac{3}{5}$

⑨  $\triangle ABD \rightarrow 17 = \overline{AB}^2 + \overline{AD}^2 - 2\overline{AB}\overline{AD} \cdot \cos \angle BAD$   
 $= \overline{AB}^2 + \overline{AD}^2 - 2 \times 5 \times -\frac{3}{5}$

$\therefore \overline{AB}^2 + \overline{AD}^2 = 11$

⑩  $(\overline{AB} + \overline{AD})^2 - 2\overline{AB}\overline{AD} = 11$

$\overline{AB} + \overline{AD} = \sqrt{11 + 2 \times 5} = \sqrt{21}$

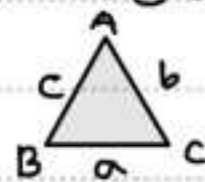
#13에 쓰인 개념 (단계별)

②&⑨ 코사인 법칙

$\cos A = \frac{b^2 + c^2 - a^2}{2bc}$

$a^2 = b^2 + c^2 - 2bc \cos A$

④ 삼각형 넓이 공식

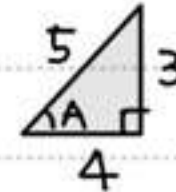


$\triangle ABC = \frac{1}{2} \times c \times b \times \sin A$

⑤&⑧  $\sin$  &  $\cos$  변환  $\rightarrow$  직각  $\triangle$  그리기

ex)  $\sin A = \frac{3}{5}$  일 때  $\cos A$ 는?

i) 직각  $\triangle$  그리기 (피타고라스 이용해서 남은 변도 구함)



ii)  $\cos A$  후보 정하기 :  $\frac{4}{5}$  or  $-\frac{4}{5}$

iii)  $\angle A$ 의 크기로  $\pm$  정하기.

$\angle A$ 는 여각  $\rightarrow$  A iii)  $\rightarrow$  A ii)  $\rightarrow$  A i)  $\rightarrow$  A

iv)  $\therefore \cos A = \frac{4}{5}$

⑥&⑦ 사인법칙

$\frac{a}{\sin A} = \frac{b}{\sin B} = \frac{c}{\sin C} = 2R (=지름)$

14. 실수  $a(a \geq 0)$ 에 대하여 수직선 위를 움직이는 점 P의 시각  $t(t \geq 0)$ 에서의 속도  $v(t)$ 를

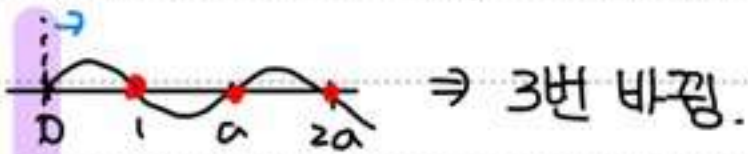
$$v(t) = -t(t-1)(t-a)(t-2a)$$

라 하자. 점 P가 시각  $t=0$ 일 때 출발한 후 운동 방향을 한 번만 바꾸도록 하는  $a$ 에 대하여, 시각  $t=0$ 에서  $t=2$ 까지 점 P의 위치의 변화량의 최댓값은? [4점]

- ①  $\frac{1}{5}$     ②  $\frac{7}{30}$     ③  $\frac{4}{15}$     ④  $\frac{3}{10}$     ⑤  $\frac{1}{3}$

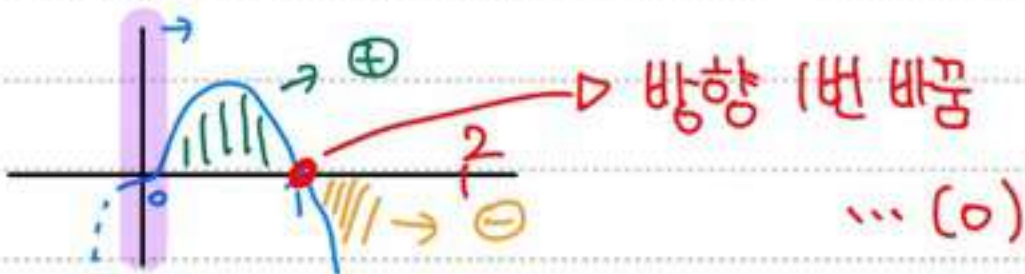
① 운동방향을 바꿀 때 : 속도 0 됨.  
속도 0인데 운동방향 안 바꾸려면 중근이어야 함.  
(옆에 개념부터 보기)

② 속도  $v(t)$ 를 0 만드는  $t : 0, 1, a, 2a$   
이 네개의  $t$ 가 모두 다르려면 운동방향이

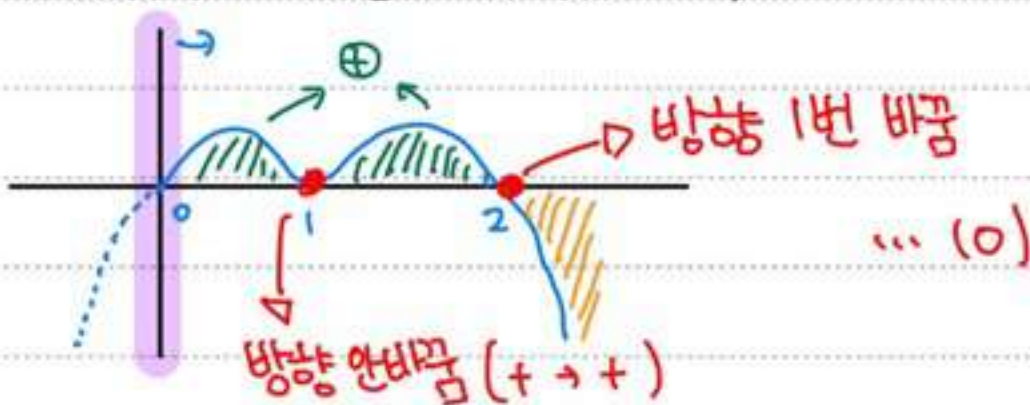


즉, 같은 숫자가 무조건 있어야 함

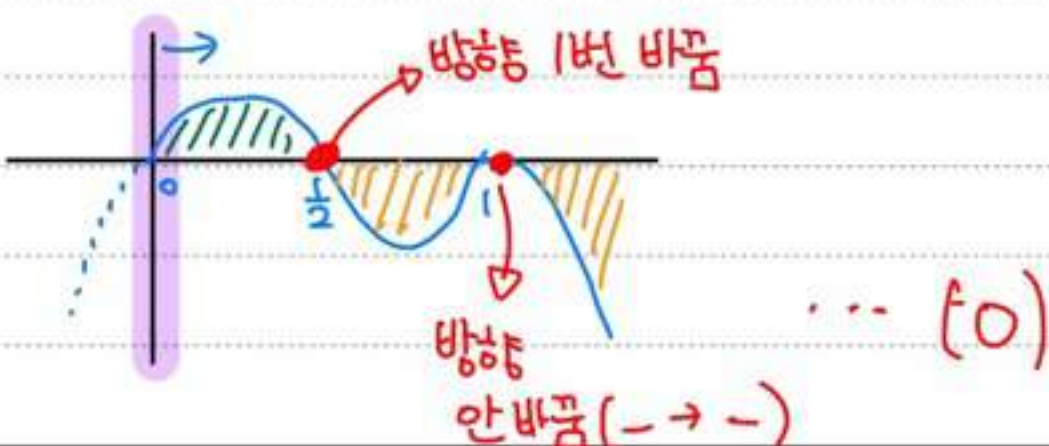
③ i)  $a=0$  일때  
 $v(t) = -t^3(t-1)$



ii)  $a=1$  일때  
 $v(t) = -t(t-1)^2(t-2)$



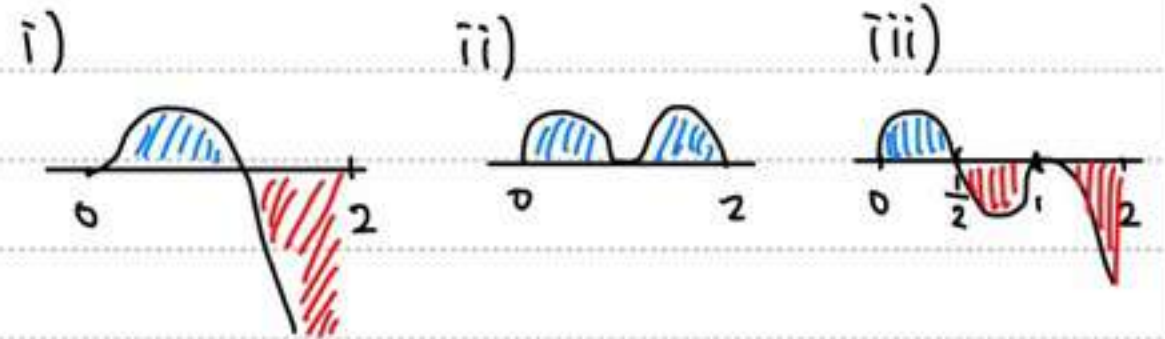
iii)  $a = \frac{1}{2}$  일 때  
 $v(t) = -t(t-1)^2(t-\frac{1}{2})$



④  $a$ 가 0, 1,  $\frac{1}{2}$  일 때 모두 조건 충족.

원래는 P의 위치 변화량 각각 구해준 다음에 제일 큰게 최댓값.

근데 그래프를 보면



당연히 그냥 적분하면 -가 없는 ii)가 제일 크겠지. ii)만 적분해.

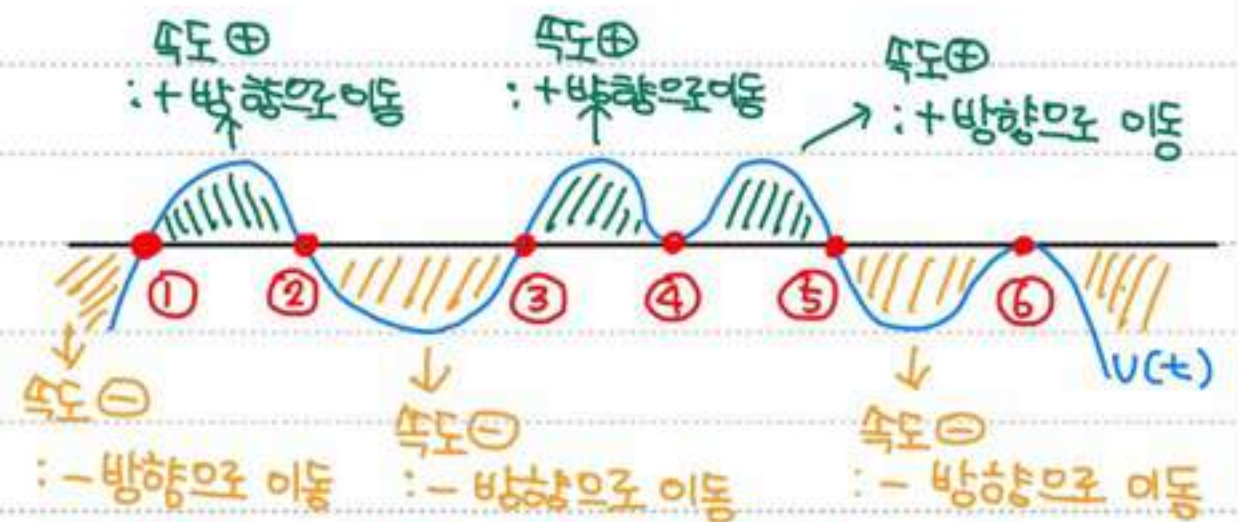
$$\therefore \int_0^2 -t(t-1)^2(t-2) dt = \frac{4}{15}$$

### #14에 쓰인 개념

#### <속도와 방향>

- 방향을 바꿀 때  $\rightarrow$  속도 0
- 속도가 0될 때  $\rightarrow$  방향 바꿀수도, 안 바꿀 수도.

ex) 속도 그래프를  $v(t)$  라고 하면



- ① & ③ : 속도 0, 운동방향 바꿈 ( $- \rightarrow +$ )
- ② & ⑤ : 속도 0, 운동방향 바꿈 ( $+ \rightarrow -$ )
- ④ : 속도 0, 운동방향 안 바꿈 ( $+ \rightarrow +$ )
- ⑥ : 속도 0, 운동방향 안 바꿈 ( $- \rightarrow -$ )

$\rightarrow$  속도가 0인데 운동방향 안 바꿨다?  $\rightarrow$  중근임. (④ & ⑥처럼)

#### <위치의 변화량과 거리>

- 위치의 변화 :  $+$  - 개념이 있음. (방향개념이)  
 $\therefore$  속도를 범위만큼 '그냥 적분'
- 거리 :  $+$  - 개념이 없음 (방향개념 x)  
 $\therefore$  속도를 범위만큼 '절댓값 붙여 적분'

15. 자연수  $k$ 에 대하여 다음 조건을 만족시키는 수열  $\{a_n\}$ 이 있다.

$a_1 = k$ 이고, 모든 자연수  $n$ 에 대하여

$$a_{n+1} = \begin{cases} a_n + 2n - k & (a_n \leq 0) \\ a_n - 2n - k & (a_n > 0) \end{cases}$$

이다.

↑ 음수가 총 3개 있어야. (1개 or 3개)

$a_3 \times a_4 \times a_5 \times a_6 < 0$ 이 되도록 하는 모든  $k$ 의 값의 합은? [4점]

- ① 10    ② 14    ③ 18    ④ 22    ⑤ 26

① 수열을 올라가면서 찾을 건지 내려가면서 찾을 건지 결정.  $a_1 = k$ 로 줬으니까 올라가자.

② 문제 정보 생각해보기.

i) 숫자 네개의 곱  $< 0$  ... 음수는 1개 or 3개

ii) 숫자 네개의 곱  $< 0$  ... 숫자들중에 0 있으면 안됨!

③  $a_1 = k$  ( $k > 0$ )

$$a_2 = k - 2 - k = -2 \quad (-2 < 0)$$

$$a_3 = -2 + 4 - k = 2 - k \quad (\text{양수인지 음수인지 모르지만}$$

$$k \neq 2)$$

$$\therefore k = 1, 3, 4, 5 \dots$$

④ i)  $k = 1$

$$a_3 = 2 - 1 = 1 \text{ (양)} \quad / \quad a_4 = 1 - 6 - 1 = -6 \text{ (음)}$$

$$a_5 = -6 + 8 - 1 = 1 \text{ (양)} \quad / \quad a_6 = 1 - 10 - 1 = -10 \text{ (음)}$$

→ 음수 두개 ... (x)

ii)  $k = 3$

$$a_3 = 2 - 3 = -1 \text{ (음)} \quad / \quad a_4 = -1 + 6 - 3 = 2 \text{ (양)}$$

$$a_5 = 2 - 8 - 3 = -9 \text{ (음)} \quad / \quad a_6 = -9 + 10 - 3 = -2 \text{ (음)}$$

→ 음수 세개 ... (o)

iii)  $k = 4$

$$a_3 = 2 - 4 = -2 \text{ (음)} \quad / \quad a_4 = -2 + 6 - 4 = 0$$

→ 0 있어서 안됨 ... (x)

iv)  $k = 5$

$$a_3 = 2 - 5 = -3 \text{ (음)} \quad / \quad a_4 = -3 + 6 - 5 = -2 \text{ (음)}$$

$$a_5 = -2 + 8 - 5 = 1 \text{ (양)} \quad / \quad a_6 = 1 - 10 - 5 = -14 \text{ (음)}$$

→ 음수 세개 ... (o)

v)  $k = 6$

$$a_3 = 2 - 6 = -4 \text{ (음)} \quad / \quad a_4 = -4 + 6 - 6 = -4 \text{ (음)}$$

$$a_5 = -4 + 8 - 6 = -2 \text{ (음)} \quad / \quad a_6 = -2 + 10 - 6 = 2 \text{ (양)}$$

→ 음수 세개 ... (o)

vi)  $k = 7$  이상

→ 음수 네개 ... (x)

⑤  $k: 3, 5, 6 \rightarrow 14$

#15에 쓰인 개념

그냥 인성 test 한다 생각하교 꾸준하되, 오래 걸리니까 풀 거 다 풀고 뒷순서에 하기.

subject

title

check ○○○○○

24학년도 6평 - @Jongganggirl - :-

date

16. 부등식  $2^{x-6} \leq \left(\frac{1}{4}\right)^x$  을 만족시키는 모든 자연수  $x$  의 값의 합을 구하시오. [3점]

① 밑 맞춰주기.

$$2^{x-6} \leq 2^{-2x}$$

② 지수끼리 비교 (밑이 같아 부호 그대로)

$$x-6 \leq -2x$$

$$3x \leq 6$$

$$x \leq 2$$

③ 모든 자연수 : 1, 2  $\therefore 3$

#16에 쓰인 개념

< 지수 대소 비교 >

• 밑을 같게 하든 지수를 같게 하든 뭐라도 맞춰야 비교 용이. 보통 밑을 맞춤.

i)  $0 < 밑 < 1 \rightarrow$  부호 반대로.

$$\text{ex) } \left(\frac{1}{2}\right)^{x-3} < \left(\frac{1}{2}\right)^{2x-4} \Rightarrow x-3 > 2x-4$$

ii) 밑  $> 1 \rightarrow$  부호 그대로

$$\text{ex) } (3)^{x-3} < (3)^{2x-4} \Rightarrow x-3 < 2x-4$$

\* 로그도  $0 < 밑 < 1$ , 밑  $> 1$  보고 부호 들어감

17. 함수  $f(x)$  에 대하여  $f'(x) = 8x^3 - 1$  이고  $f(0) = 3$  일 때,  $f(2)$  의 값을 구하시오. [3점]

①  $f'(x)$  적분해서  $f(x)$  구하기. (부정적분이니까 적분상수 꼭)

$$f(x) = 2x^4 - x + C$$

②  $f(0) = 3 = C \therefore C = 3$

$$f(x) = 2x^4 - x + 3$$

③  $f(2) = 32 - 2 + 3 = 33$

#17에 쓰인 개념

• 부정적분 : 특정 구간  $X$ , 식 자체를 그냥 적분  $\rightarrow$  적분상수  $O$

• 정적분 : 특정 구간  $O \rightarrow$  적분상수  $X$

$$\text{ex) } \int_a^b f(x) dx$$

\* 사실 정적분은 적분상수가 없는데 보다 계산하면 없어서 처음부터 안 쓰는 것.

18. 두 상수  $a, b$  에 대하여 삼차함수  $f(x) = ax^3 + bx + a$  는  $x=1$  에서 극소이다. 함수  $f(x)$  의 극솟값이  $-2$  일 때, 함수  $f(x)$  의 극댓값을 구하시오. [3점]

①  $x=1$  에서 극값  $\rightarrow f'(1) = 0$

$$f'(x) = 3ax^2 + b$$

$$f'(1) = 3a + b = 0 \therefore b = -3a$$

②  $x=1$  에서 극소인데 극솟값이  $-2$  이다.

=  $x$  에 1 넣으면  $f(x) = -2$  이고, 극솟값이다.

$$f(x) = ax^3 - 3ax + a$$

$$f(1) = a - 3a + a = -2 \therefore a = 2$$

$$b = -6$$

③  $f(x) = 6x^3 - 6 = 6(x+1)(x-1)$

$\hookrightarrow x = -1, 1$  에서 극값.

$$f(x) = \begin{array}{c} \text{---} f(-1) \\ \text{---} -2 \end{array} \quad f(-1) = 3a = 6$$

#18에 쓰인 개념

(생략)

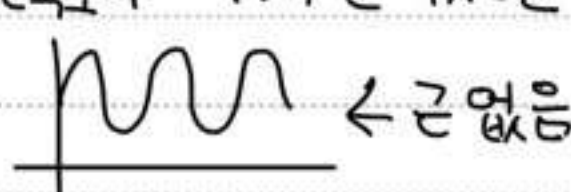
19. 두 자연수  $a, b$ 에 대하여 함수  $a, b$ 가 자연수라  
 $f(x) = a \sin bx + 8 - a$  → 최대, 최소, 주기 구할 때  
 절댓값 안 붙여도 OK  
 가 다음 조건을 만족시킬 때,  $a+b$ 의 값을 구하시오. [3점]

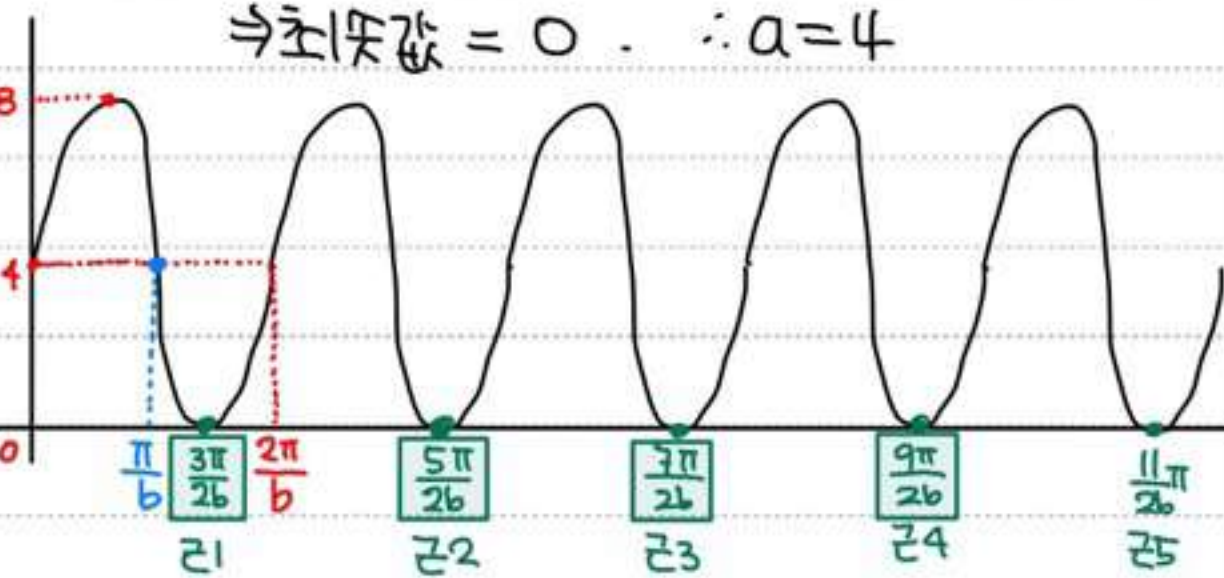
- (가) 모든 실수  $x$ 에 대하여  $f(x) \geq 0$ 이다.
- (나)  $0 \leq x < 2\pi$ 일 때,  $x$ 에 대한 방정식  $f(x) = 0$ 의 서로 다른 실근의 개수는 4이다.

① 삼각함수가 식의 형태로 나오면 최대값, 최소값, 주기부터 구하기.

최대: 8, 최소:  $8 - 2a$ , 주기:  $\frac{2\pi}{b}$

② (가)  $f(x) \geq 0$  이려면 최소값도 0보다 크거나 같아야  
 $8 - 2a \geq 0 \therefore 4 \geq a$

③ (나)  $f(x) = 0$ 의 실근의 개수가 4개.  
 생각해봐. (가)  $f(x)$ 가 x축보다 위에 있거나 x축에 닿아 있는데, (나)  $f(x)$ 가 x축에 닿는 부분이  $0 \leq x < 2\pi$ 에서 4개다?  
 만약,  $f(x)$ 가 x축보다 '위에만' 있으면 근이 안 생김.  ← 근 없음  
 즉,  $f(x)$ 는 x축에 닿아야 함.  
 $\Rightarrow$  최소값 = 0  $\therefore a = 4$



④  $0 \leq x < 2\pi$ 에 근 1~4 들어가야 하고, 근 5는 들어가지 않음. → 어디까지  $2\pi$ ?

$\Rightarrow \frac{9\pi}{2b}$  (r4) 보다  $2\pi$ 가 커야 근 4가 들어감.

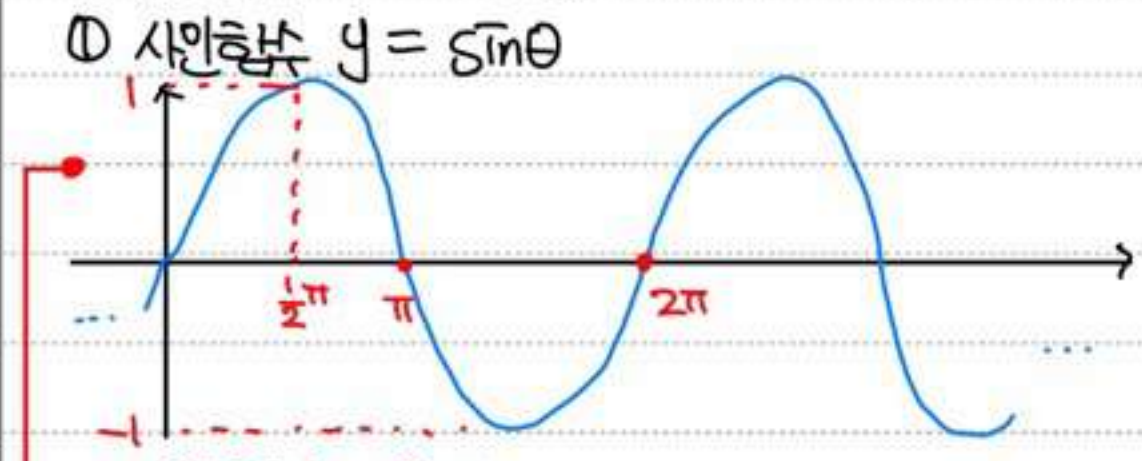
$\frac{11\pi}{2b}$  (r5) 보다  $2\pi$ 가 작거나 같아야 근 5 안 들어감.

$\frac{9\pi}{2b} < 2\pi \leq \frac{11\pi}{2b}$  ← 등호 없어서 같아도 됨!

$\rightarrow$  각각  $2b$  곱하면  $9\pi < 4b\pi < 11\pi$   
 자연수  $b = 4$

⑤  $a+b = 4+4 = 8$

#19에 쓰인 개념  
 <사인함수 그래프와 변형>



- ① 사인함수  $y = \sin \theta$ 
  - 1) 정의역: 실수 전체
  - 2) 치역:  $-1 \leq y \leq 1 \rightarrow$  최대값 1, 최소값 -1
  - 3) 연속함수
  - 4) 원점대칭
  - 5) 주기:  $2\pi$

② 사인함수  $y = a \sin b(x+c)+d$

→ 위에 있는 기본 꼴 함수를  
 위아래로 |a|배, 양쪽으로  $\frac{1}{|b|}$ 배 하고  
 x축의 방향으로 -c만큼, y축의 방향으로 d만큼 평행이동

- ② 사인함수  $y = a \sin b(x+c)+d$ 
  - 1) 정의역: 실수 전체
  - 2) 치역:  $-|a|+d \leq y \leq |a|+d \rightarrow$  최대값  $|a|+d$   
 최소값  $-|a|+d$
  - 3) 연속함수
  - 4) c랑 b가 0이면 원점대칭. 하나라도 0 아니면 원점대칭x
  - 5) 주기:  $\frac{2\pi}{|b|}$

\*코사인함수는 4)만 원점대칭으로 바뀌면 모두 같음.

20. 최고차항의 계수가 1인 이차함수  $f(x)$ 에 대하여 함수

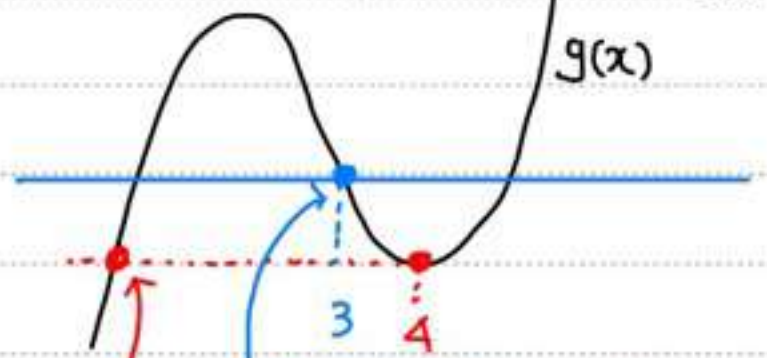
$$g(x) = \int_0^x f(t) dt$$

가 다음 조건을 만족시킬 때,  $f(9)$ 의 값을 구하시오. [4점]

$x \geq 1$ 인 모든 실수  $x$ 에 대하여  $g(x) \geq g(4)$ 이고  $|g(x)| \geq |g(3)|$ 이다.

- ① 문제에서 뱉을 수 있는 정보 다 쓰기.  $\rightarrow \cup$  모양
  - i) 최고차항 계수가 1인 이차함수  $\rightarrow f(x) = x^2 + ax + b$
  - ii)  $g(x) = \int_0^x f(t) dt$  이런 꼴 나오면
    - $\rightarrow g(0) = 0$  ① 적분값 0 만드는  $x$  넣으면
    - $g'(x) = f(x)$  ② 양변 미분 해보기.
  - iii) i) & ii)에 의해  $g(x) = \frac{1}{3}x^3 + \frac{1}{2}ax^2 + bx$
  - iv) 조건)  $x \geq 1$ 인  $x$ 에 대해  $g(x) \geq g(4)$   $\sim$  모양
    - $\rightarrow x \geq 4$ 에서는  $g(4)$ 가 최솟값이다.
    - $\rightarrow$  즉,  $x < 4$ 에서는  $g(4)$ 가 극솟값이다.
    - $\therefore g'(4) = 0$
  - v) 조건)  $|g(x)| \geq |g(3)|$ 
    - $\rightarrow$  3차함수 치역은 실수 전체라서 절댓값 쓰는 최솟값은 언제나 0임.
    - $\therefore g(3) = 0$

② 그려보자. (숫자 순서대로 보면 됨)



③ 4보다 작은 곳에 3 잡고  $g(3) = 0$  이니까 거기  $x$  찍  
 ① 여기가 1이어야 조건 성립

③ 아까  $g'(x) = f(x) = x^2 + ax + b$ ,  $g'(4) = 0$  이라함  
 $\rightarrow 16 + 4a + b = 0 \quad \therefore b = -16 - 4a$

④ ① iii)에서 구한  $g(x)$ 에  $b$  대신  $-16 - 4a$  넣기.  
 $g(x) = \frac{1}{3}x^3 + \frac{a}{2}x^2 - 4(4+a)x$   
 $g(3) = 9 + \frac{9}{2}a - 48 - 12a = 0 \quad \therefore a = -\frac{26}{5}$

⑤  $f(x) = x^2 - \frac{26}{5}x + \frac{24}{5}$   $b = \frac{24}{5}$   
 $f(9) = 39$

# 20번에 쓰인 개념

사실 20번은 개념보다 해석법을 알려주는 게 나올 듯.

- ①  $g(x) = \int_a^x f(t) dt$  꼴 나오면 이것부터!  
 i)  $x$ 에  $a$  넣기 :  $g(a) = 0$   
 ii) 양변 미분 :  $g'(x) = f(x)$

\* 적분식 미분법

$\int_a^x f(t) dt$   $\xrightarrow{\text{적분}}$  양변  $t$ 를 없애고  $x$  자리  $x$  넣기  $\therefore f(x)$   
 $\rightarrow$  숫자나  $a$  이런 거

ex)  $\int_1^x f(t)g(x) dt$   $\xrightarrow{\text{적분}}$   $f(x)g(x)$   
 $t$  없애니까 건들지  $x$ .  
 $t$  자리  $x$  넣기

- ② 모든 실수에서  $f(x) \geq f(a)$  는  $f(a)$ 가 극솟값이자 최솟값이라는 뜻.
- ③  $x \geq a$  범위에서  $f(x) \geq f(b)$ 는 어쨌든  $x \geq a$ 에서  $f(b)$ 가 제일 작다는 뜻.  
 $\rightarrow$  그래프 그려서 확인
- ④  $|$ 항차함수  $f(x)| \geq |f(a)|$  는  $f(a) = 0$  이라는 뜻.