

15. 모든 항이 자연수인 수열 $\{a_n\}$ 이 다음 조건을 만족시킨다.

(가) 모든 자연수 n 에 대하여

$$a_{n+1} = \begin{cases} \frac{1}{2}a_n + 2n & (a_n \text{이 } 4 \text{의 배수인 경우}) \\ a_n + 2n & (a_n \text{이 } 4 \text{의 배수가 아닌 경우}) \end{cases}$$

이다.

(나) $a_3 > a_5$

$50 < a_4 + a_5 < 60$ 이 되도록 하는 a_1 의 최댓값과 최솟값을 각각 M, m 이라 할 때, $M+m$ 의 값은? [4점]

- ① 224 ② 228 ③ 232 ④ 236 ⑤ 240

$$a_4 = \begin{cases} \frac{1}{2}a_3 + 6 & (a_3 = 4n) \\ a_3 + 6 & (a_3 \neq 4n) \end{cases} \quad \begin{cases} \frac{1}{4}a_3 + 11 & (a_3 = 4n) \\ \frac{1}{2}a_3 + 11 & (a_3 \neq 4n) \end{cases}$$

$$a_5 = \begin{cases} \frac{1}{2}a_4 + 8 & (a_4 = 4m) \\ a_4 + 8 & (a_4 \neq 4m) \end{cases} \quad \begin{cases} \frac{1}{2}a_3 + 14 & (a_3 = 4n) \\ \cancel{a_3 + 14} & (a_3 \neq 4n) \end{cases}$$

조건 (나)

① $a_3 = 4n, a_4 = 4m$

$a_3 > \frac{1}{4}a_3 + 11, a_3 > \frac{44}{3} = 14.xx \quad (\because \text{조건 (나)})$

$a_4 + a_5 = \frac{3}{4}a_3 + 17 \Rightarrow a_3 = 48, \boxed{52}, 56$

$50 < \frac{3}{4}a_3 + 17 < 60 \Rightarrow a_4 = \cancel{30}, \boxed{32}, \cancel{34}$

$44 < a_3 < \frac{172}{3} = 57.xx$

② $a_3 = 4n, a_4 \neq 4m$

$a_3 > \frac{1}{2}a_3 + 14, a_3 > 28 \quad (\because \text{조건 (나)})$

$a_4 + a_5 = a_3 + 20 \Rightarrow a_3 = \boxed{32}, 36$

$50 < a_3 + 20 < 60 \Rightarrow a_4 = \boxed{22}, \cancel{24}$

$30 < a_3 < 40$

③ $a_3 \neq 4n, a_4 = 4m$

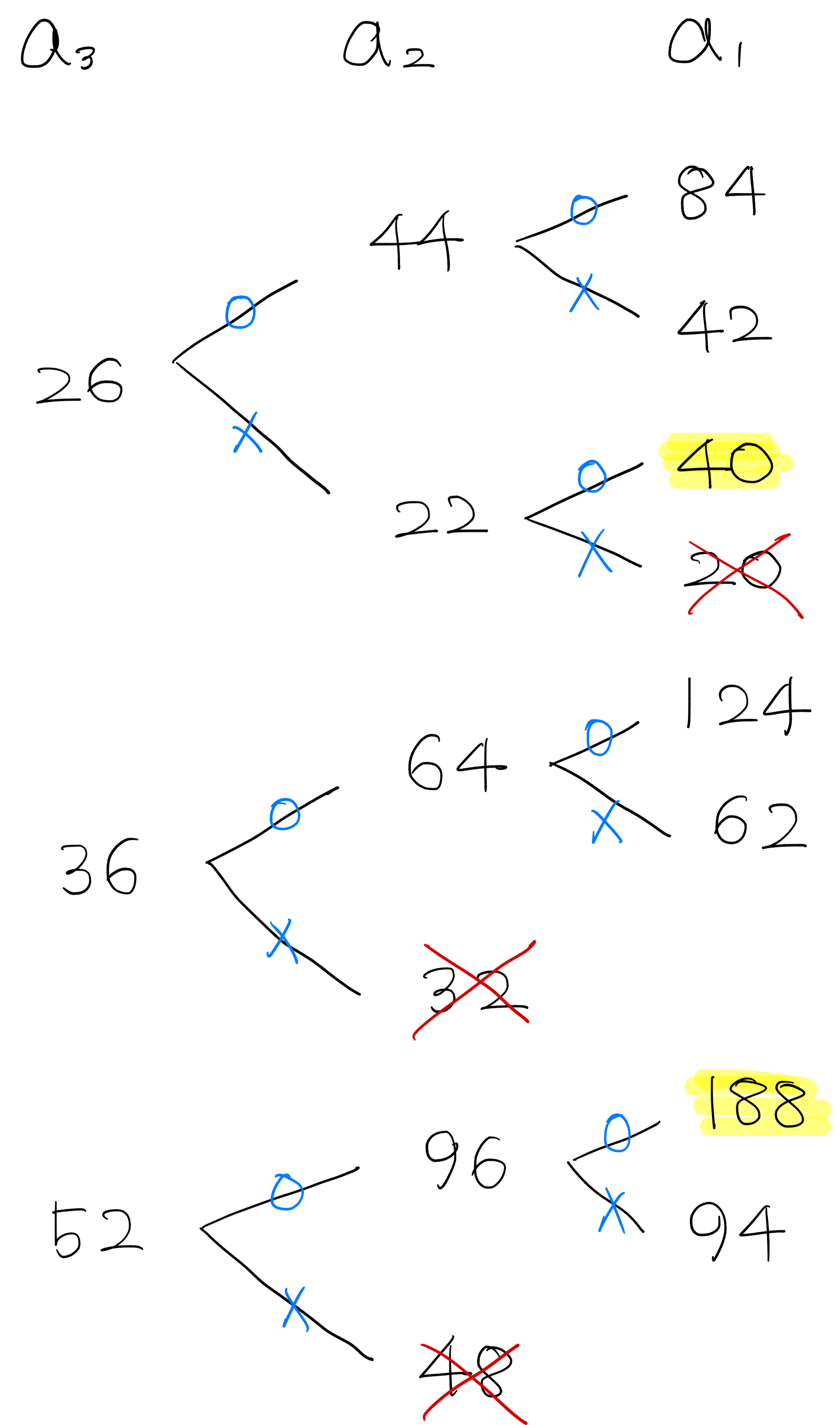
$a_3 > \frac{1}{2}a_3 + 11, a_3 > 22 \quad (\because \text{조건 (나)})$

$a_4 + a_5 = \frac{3}{2}a_3 + 17 \Rightarrow a_3 = 23, 25, \boxed{26}, 27$

$50 < \frac{3}{2}a_3 + 17 < 60 \Rightarrow a_4 = \cancel{22}, \cancel{24}, \boxed{32}, \cancel{34}$

$22 < a_3 < \frac{86}{3} = 28.xx$

O : 4의 배수
X : 4의 배수 아님



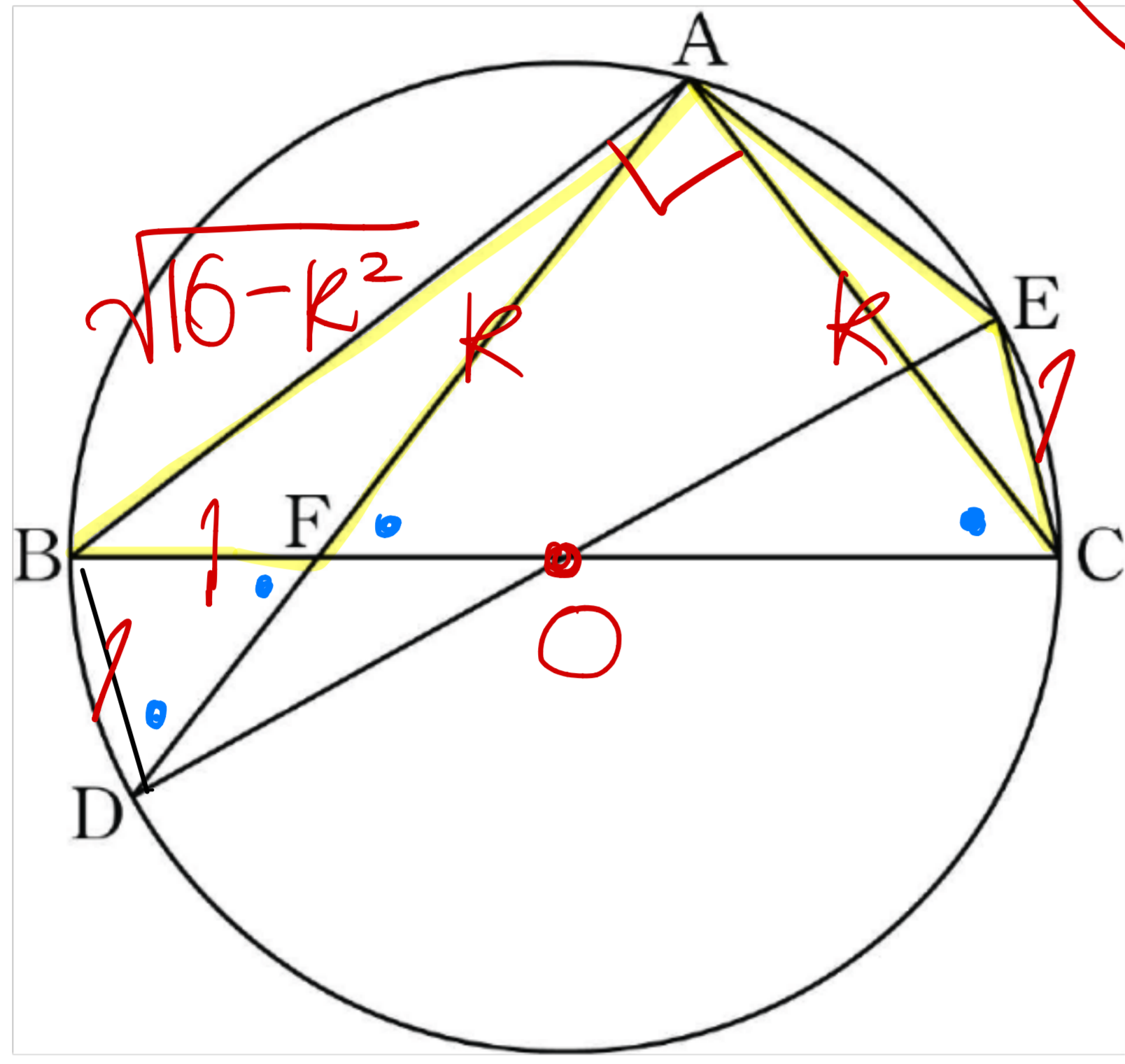
$\Rightarrow M = 188, m = 40$

$\therefore M + m = 228$

21. 그림과 같이 선분 BC를 지름으로 하는 원에 두 삼각형 ABC와 ADE가 모두 내접한다. 두 선분 AD와 BC가 점 F에서 만나고

$$\overline{BC} = \overline{DE} = 4, \overline{BF} = \overline{CE}, \sin(\angle CAE) = \frac{1}{4}$$

이다. $\overline{AF} = k$ 일 때, k^2 의 값을 구하시오. [4점]



$$\frac{\overline{CE}}{\sin(\angle CAE)} = 2R$$

$$\overline{CE} = \frac{1}{4} \times 2 \times 2 = 1$$

$$\therefore \overline{BF} = \overline{CE} = 1$$

$$\overline{BF}^2 = \overline{AB}^2 + \overline{AF}^2 - 2\overline{AB}\overline{AF}\cos(\angle BAF)$$

$$\rightarrow = \sqrt{1 - \sin^2(\angle BAF)}$$

$$= \sqrt{1 - \sin^2(\angle CAE)}$$

$$= \frac{\sqrt{15}}{4}$$

$$\Rightarrow 1 = 16 - k^2 + k^2 - 2\sqrt{16-k^2} \times k \times \frac{\sqrt{15}}{4}$$

$$\frac{\sqrt{15}}{2} \times \sqrt{16-k^2} \times k = 15$$

$$k^2(16-k^2) = 60$$

$$k^4 - 16k^2 + 60 = 0$$

$$(k^2 - 8)^2 = 4$$

$$\therefore k^2 = \boxed{6} \text{ 또는 } \cancel{10}$$

$$16 - k^2 = \boxed{10} \text{ 또는 } \cancel{6}$$

$$\Rightarrow k^2 = 6$$

28. 정규분포를 따르는 두 확률변수 X, Y 의 확률밀도함수는 각각 $f(x), g(x)$ 이다. $V(X) = V(Y)$ 이고, 양수 a 에 대하여

$f(a) = f(3a) = g(2a),$

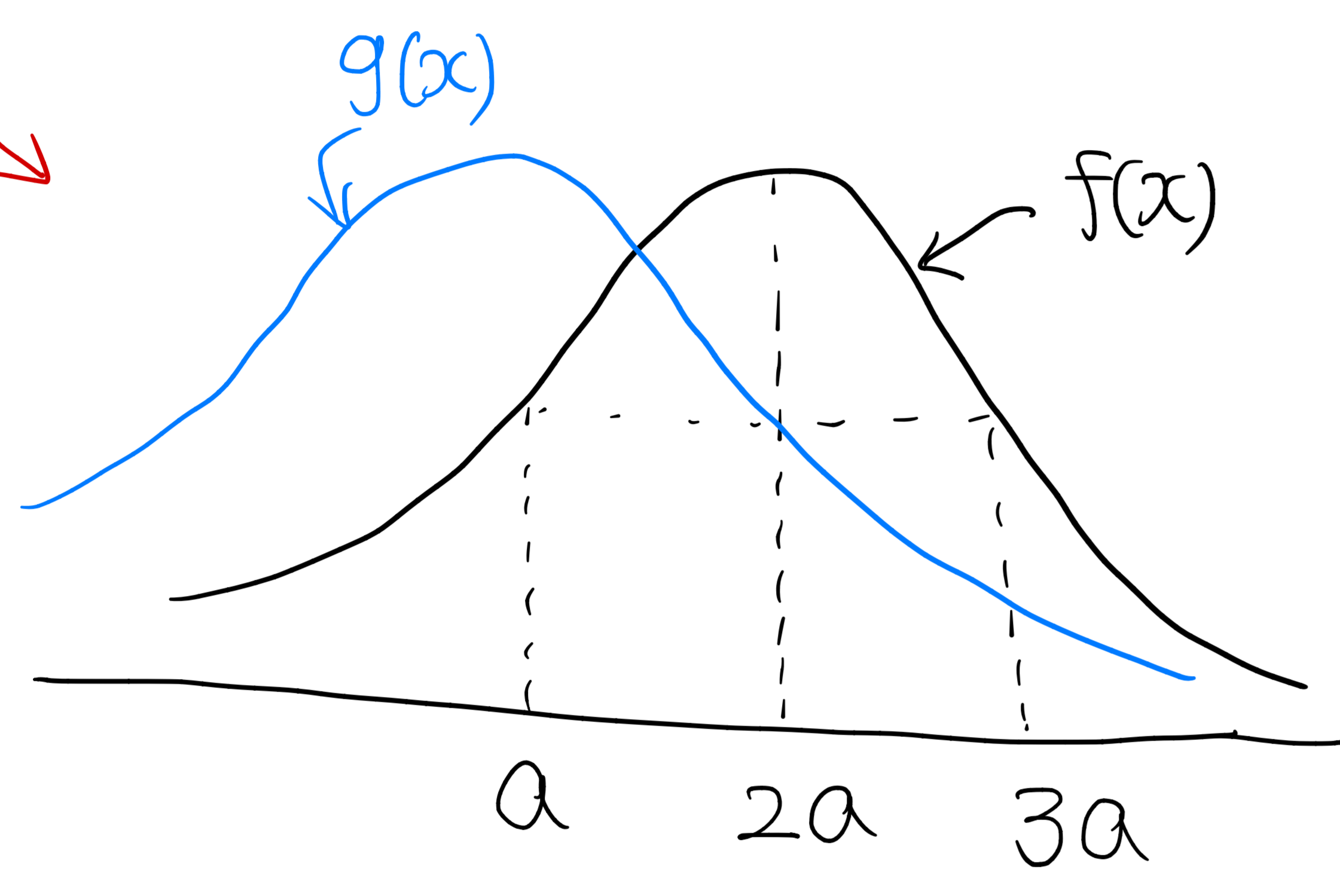
$P(Y \leq 2a) = 0.6915$

일 때, $P(0 \leq X \leq 3a)$ 의 값을 오른쪽 표준정규분포표를 이용하여 구한 것은? [4점]

z	$P(0 \leq Z \leq z)$
0.5	0.1915
1.0	0.3413
1.5	0.4332
2.0	0.4772

- ① 0.5328 ② 0.6247 ③ 0.6687
- ④ 0.7745 ⑤ 0.8185

$P(Y \leq 2a) = 0.5 + 0.1915$



$\frac{3a - 2a}{\sigma} = \frac{a}{\sigma} = \frac{1}{2}$

$\therefore \sigma = 2a$

$\therefore P(0 \leq X \leq 3a)$

$= P(-1 \leq Z \leq 0.5)$

$= 0.3413 + 0.1915$

$= 0.5328$

30. 두 정수 a, b 에 대하여 함수

$$f(x) = (x^2 + ax + b)e^{-x}$$

이 다음 조건을 만족시킨다.

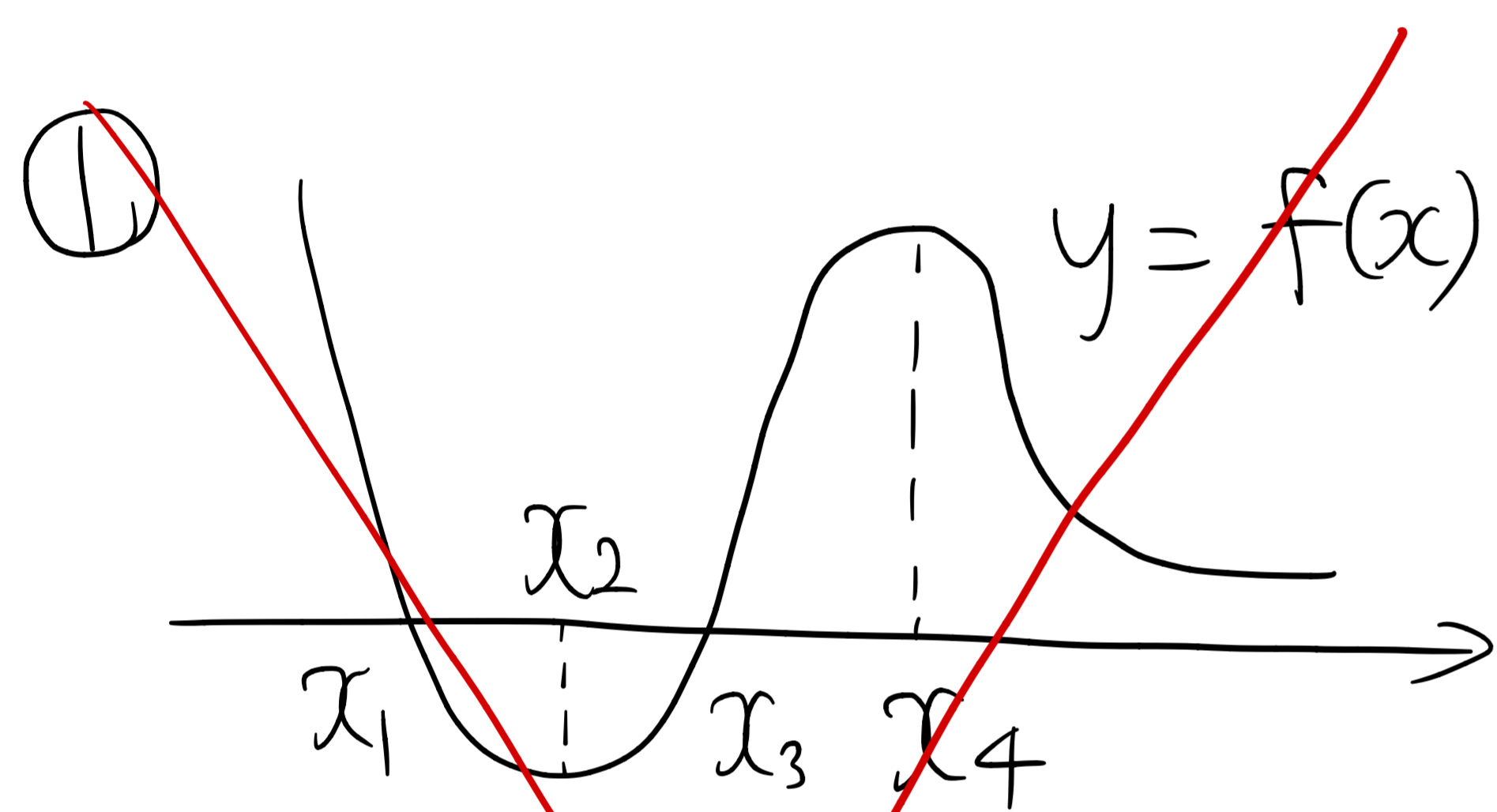
- (가) 함수 $f(x)$ 는 극값을 갖는다.
- (나) 함수 $|f(x)|$ 가 $x=k$ 에서 극대 또는 극소인 모든 k 의 값의 합은 3이다.

$f(10) = pe^{-10}$ 일 때, p 의 값을 구하시오. [4점]

$$f(x) = (x^2 + ax + b)e^{-x}$$

$$f'(x) = e^{-x}(2x + a - x^2 - ax - b)$$

$$= -\{x^2 + (a-2)x - (a-b)\}e^{-x}$$



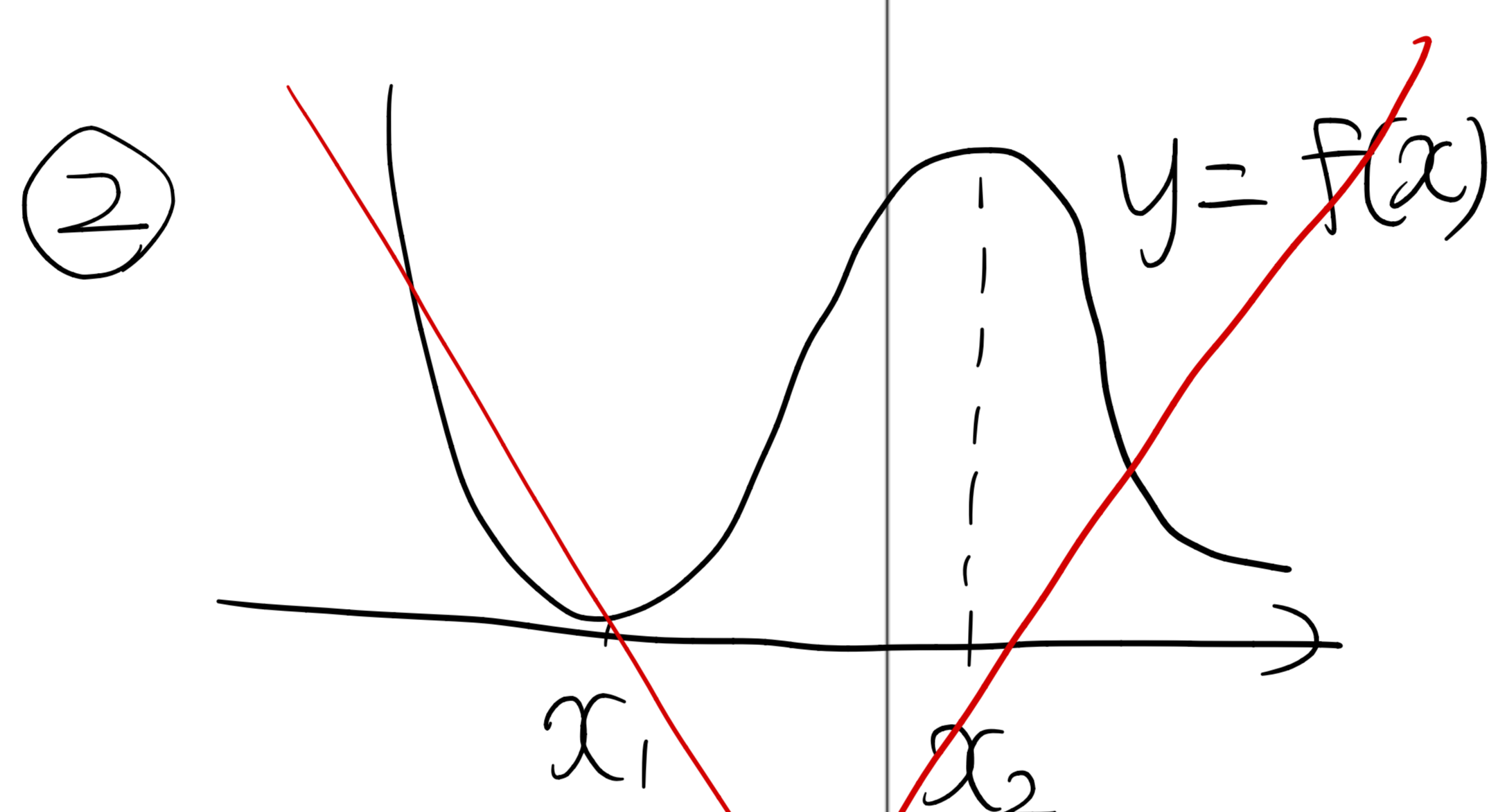
$$x_1 + x_3 = -a$$

$$x_2 + x_4 = 2 - a$$

$$x_1 + x_2 + x_3 + x_4 = 2 - 2a$$

$$2 - 2a = 3$$

$$a = -\frac{1}{2}$$

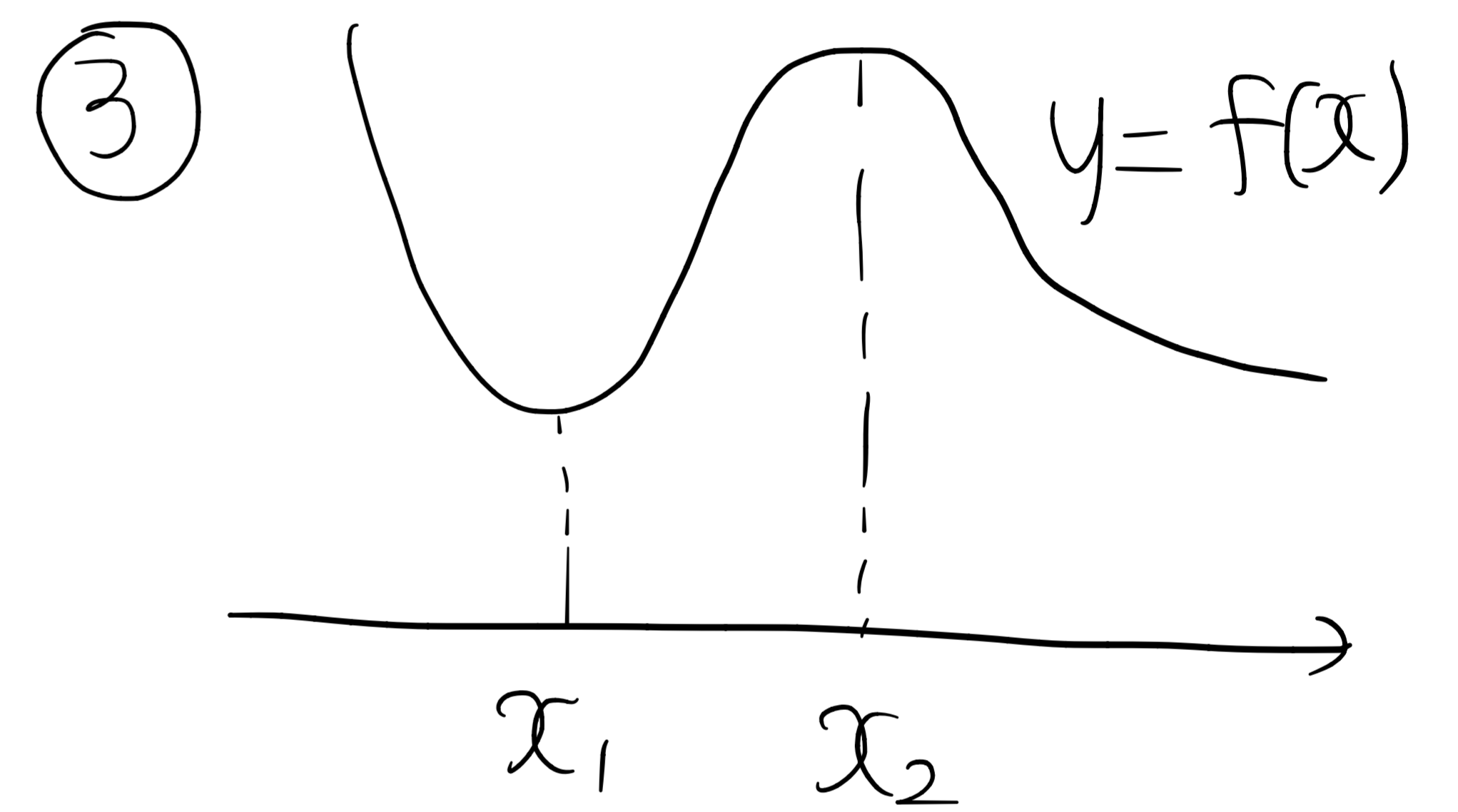


$$x_1 + x_2 = 2 - a = 3$$

$$a = -1$$

$$x^2 - x + b = 0$$

$$b = \frac{1}{4} \quad (\because \frac{2-2}{4})$$



$$x_1 + x_2 = 2 - a = 3$$

$$a = -1$$

$$a^2 - 4b < 0$$

$$\frac{1}{4} < b \dots \textcircled{7}$$

$$x^2 - 3x + b + 1 = 0$$

$$9 - 4b - 4 > 0$$

$$5 - 4b > 0$$

$$5 > 4b \dots \textcircled{8}$$

$$\frac{1}{4} < b < \frac{5}{4} \quad (\because \textcircled{7}, \textcircled{8})$$

$$\Rightarrow b = 1$$

$$f(x) = (x^2 - x + 1)e^{-x}$$

$$f(10) = (100 - 10 + 1)e^{-10}$$

$$= 91e^{-10}$$

$$\therefore p = 91$$

29. 좌표평면 위의 점 $A(5, 0)$ 에 대하여 제1사분면 위의 점 P 가

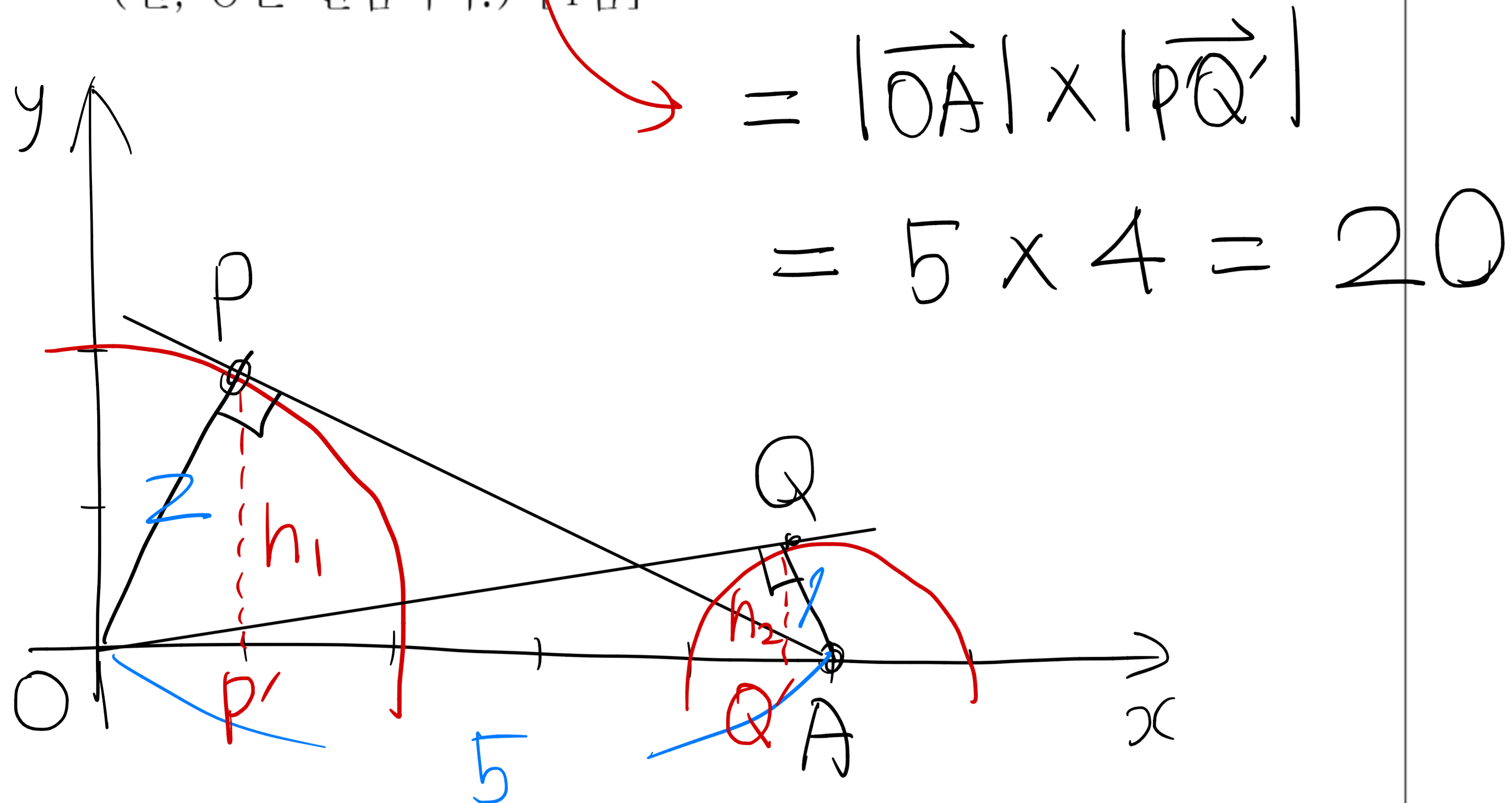
$$|\overrightarrow{OP}|=2, \overrightarrow{OP} \cdot \overrightarrow{AP}=0$$

을 만족시키고, 제1사분면 위의 점 Q 가

$$|\overrightarrow{AQ}|=1, \overrightarrow{OQ} \cdot \overrightarrow{AQ}=0$$

을 만족시킬 때, $\overrightarrow{OA} \cdot \overrightarrow{PQ}$ 의 값을 구하시오.

(단, O 는 원점이다.) [4점]



$$\overline{AP} = \sqrt{25-4} = \sqrt{21}$$

$$\overline{OQ} = \sqrt{25-1} = 2\sqrt{6}$$

① $\triangle OAP$ 의 넓이

$$\frac{1}{2} \times 5 \times h_1 = \frac{1}{2} \times 2 \times \overline{AP}$$

$$\therefore h_1 = \frac{2\sqrt{21}}{5}$$

$$\overline{AP'} = \sqrt{21 - \frac{4 \times 21}{25}} = \frac{21}{5}$$

② $\triangle OAQ$ 의 넓이

$$\frac{1}{2} \times 5 \times h_2 = \frac{1}{2} \times 1 \times \overline{OQ}$$

$$\therefore h_2 = \frac{2\sqrt{6}}{5}$$

$$\overline{OQ'} = \sqrt{24 - \frac{24}{25}} = \frac{24}{5}$$

$$\overline{OA} = \overline{OQ'} + \overline{AP'} - \overline{P'Q'}$$

$$\therefore \overline{P'Q'} = \left(\frac{24}{5} + \frac{21}{5} \right) - 5 = 4$$