

2024학년도 생명과학I

6월 평가원 해설강의

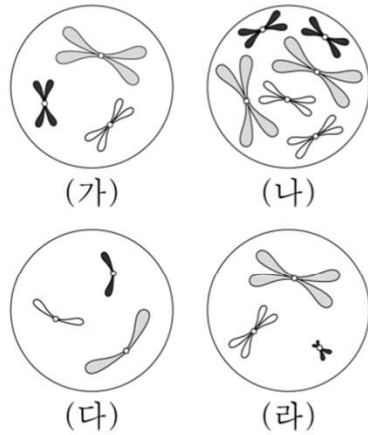
핵심 문항

By 이현우

14 그저.. 순리대로



14. 어떤 동물 종($2n=6$)의 유전 형질 ㉠은 2쌍의 대립유전자 A와 a, B와 b에 의해 결정된다. 그림은 이 동물 종의 개체 I 과 II의 세포 (가)~(라) 각각에 들어 있는 모든 염색체를, 표는 (가)~(라)에서 A, a, B, b의 유무를 나타낸 것이다. (가)~(라) 중 2개는 I의 세포이고, 나머지 2개는 II의 세포이다. I은 암컷이고 성염색체는 XX이며, II는 수컷이고 성염색체는 XY이다.



세포	대립유전자			
	A	a	B	b
(가)	○	?	?	?
(나)	?	○	○	×
(다)	○	×	×	○
(라)	?	○	×	×

(○: 있음, ×: 없음)

이에 대한 설명으로 옳은 것만을 <보기>에서 있는 대로 고른 것은? (단, 돌연변이와 교차는 고려하지 않는다.) [3점]

<보 기>

- ㄱ. (가)는 II의 세포이다.
 ㄴ. I의 유전자형은 AaBB이다.
 ㄷ. (다)에서 b는 상염색체에 있다.

- ① ㄱ ② ㄴ ③ ㄷ ④ ㄱ, ㄴ ⑤ ㄴ, ㄷ

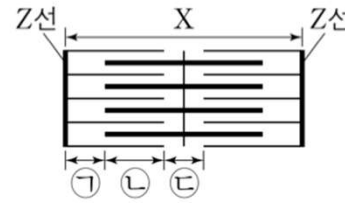
15 간단한 요소 정리

다음 문제 11번

시점	수축 방향성	길이			
		X	Ⓐ	Ⓑ	Ⓒ
		↓			↓
t_1	↑		x	x	
t_2		3.0			$2x$

15. 다음은 골격근의 수축 과정에 대한 자료이다.

- 그림은 근육 원섬유 마디 X의 구조를 나타낸 것이다. X는 좌우 대칭이다.
- 구간 ㉠은 액틴 필라멘트만 있는 부분이고, ㉡은 액틴 필라멘트와 마이오신 필라멘트가 겹치는 부분이며, ㉢은 마이오신 필라멘트만 있는 부분이다.



- 골격근 수축 과정의 두 시점 t_1 과 t_2 중 t_1 일 때 ㉠의 길이와 ㉡의 길이를 더한 값은 $1.0\mu\text{m}$ 이고, X의 길이는 $3.2\mu\text{m}$ 이다.
- t_1 일 때 $\frac{\text{㉠의 길이}}{\text{㉡의 길이}} = \frac{2}{3}$ 이고, t_2 일 때 $\frac{\text{㉠의 길이}}{\text{㉡의 길이}} = 1$ 이며, $\frac{t_1\text{일 때 ㉡의 길이}}{t_2\text{일 때 ㉡의 길이}} = \frac{1}{3}$ 이다. ㉠과 ㉡은 순서 없이 나타낸 것이다.

이에 대한 설명으로 옳은 것만을 <보기>에서 있는 대로 고른 것은?

<보 기>

- ㄱ. ㉡은 ㉠이다.
- ㄴ. t_1 일 때 A대의 길이는 $1.6\mu\text{m}$ 이다.
- ㄷ. X의 길이는 t_1 일 때가 t_2 일 때보다 $0.8\mu\text{m}$ 길다.

- ① ㄱ ② ㄷ ③ ㄱ, ㄴ ④ ㄴ, ㄷ ⑤ ㄱ, ㄴ, ㄷ

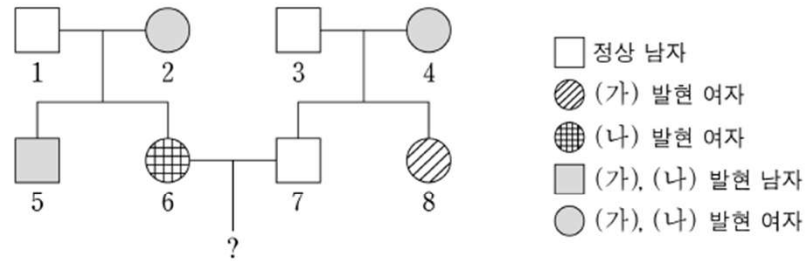


16 상대량 간 위상

열성 0 정보

16. 다음은 어떤 집안의 유전 형질 (가)와 (나)에 대한 자료이다.

- (가)는 대립유전자 A와 a에 의해, (나)는 대립유전자 B와 b에 의해 결정된다. A는 a에 대해, B는 b에 대해 각각 완전 우성이다.
- (가)와 (나)는 모두 우성 형질이고, (가)의 유전자와 (나)의 유전자는 서로 다른 염색체에 있다.
- 가계도는 구성원 1~8에게서 (가)와 (나)의 발현 여부를 나타낸 것이다.



- 표는 구성원 1, 2, 5, 8에서 체세포 1개당 a와 B의 DNA 상대량을 나타낸 것이다. ㉠~㉣은 0, 1, 2를 순서 없이 나타낸 것이다.

구성원		1	2	5	8
DNA 상대량	a	1	㉠	㉡	?
	B	?	㉢	㉠	㉡

이에 대한 설명으로 옳은 것만을 <보기>에서 있는 대로 고른 것은? (단, 돌연변이와 교차는 고려하지 않으며, A, a, B, b 각각의 1개당 DNA 상대량은 1이다.) [3점]

〈보 기〉

- ㄱ. (가)의 유전자는 X 염색체에 있다.
ㄴ. ㉔은 2이다.
ㄷ. 6과 7 사이에서 아이가 태어날 때, 이 아이에게서 (가)와 (나) 중 (나)만 발현될 확률은 $\frac{1}{2}$ 이다.

- ① ㄱ ② ㄷ ③ ㄱ, ㄴ ④ ㄴ, ㄷ ⑤ ㄱ, ㄴ, ㄷ



19

방심 금지

디자인 Basic

Algo 그리고 파본 검사 활용

19. 다음은 사람의 유전 형질 (가)와 (나)에 대한 자료이다.

- (가)는 서로 다른 3개의 상염색체에 있는 3쌍의 대립유전자 A와 a, B와 b, D와 d에 의해 결정된다.
- (가)의 표현형은 유전자형에서 대문자로 표시되는 대립유전자의 수에 의해서만 결정되며, 이 대립유전자의 수가 다르면 표현형이 다르다.
- (나)는 대립유전자 E와 e에 의해 결정되며, 유전자형이 다르면 표현형이 다르다. (나)의 유전자는 (가)의 유전자와 서로 다른 상염색체에 있다.
- P의 유전자형은 AaBbDdEe이고, P와 Q는 (가)의 표현형이 서로 같다.
- P와 Q 사이에서 ㉠가 태어날 때, ㉠에게서 나타날 수 있는 (가)와 (나)의 표현형은 최대 15가지이다.

㉠가 유전자형이 AabbDdEe인 사람과 (가)와 (나)의 표현형이 모두 같을 확률은? (단, 돌연변이는 고려하지 않는다.)

- ① $\frac{1}{16}$ ② $\frac{1}{8}$ ③ $\frac{3}{16}$ ④ $\frac{1}{4}$ ⑤ $\frac{5}{16}$

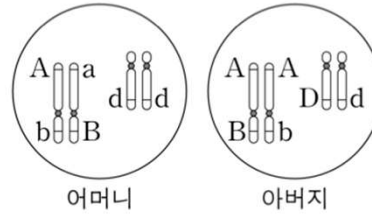


17

방향성 판단 그리고 합의 관점

17. 다음은 어떤 가족의 유전 형질 (가)~(다)에 대한 자료이다.

- (가)는 대립유전자 A와 a에 의해, (나)는 대립유전자 B와 b에 의해, (다)는 대립유전자 D와 d에 의해 결정된다.
- (가)와 (나)의 유전자는 7번 염색체에, (다)의 유전자는 13번 염색체에 있다.
- 그림은 어머니와 아버지의 체세포 각각에 들어 있는 7번 염색체, 13번 염색체와 유전자를 나타낸 것이다.
- 표는 이 가족 구성원 중 자녀 1~3에서 체세포 1개당 A, b, D의 DNA 상대량을 더한 값(A+b+D)과 체세포 1개당 a, b, d의 DNA 상대량을 더한 값(a+b+d)을 나타낸 것이다.



구성원		자녀 1	자녀 2	자녀 3
DNA 상대량을 더한 값	A+b+D	5	3	4
	a+b+d	3	3	1

- 자녀 1~3은 (가)의 유전자형이 모두 같다.
- 어머니의 생식세포 형성 과정에서 ㉠이 1회 일어나 형성된 난자 P와 아버지의 생식세포 형성 과정에서 ㉡이 1회 일어나 형성된 정자 Q가 수정되어 자녀 3이 태어났다. ㉠과 ㉡은 7번 염색체 결실과 13번 염색체 비분리를 순서 없이 나타낸 것이다.
- 자녀 3의 체세포 1개당 염색체 수는 47이고, 자녀 3을 제외한 이 가족 구성원의 핵형은 모두 정상이다.

이에 대한 설명으로 옳은 것만을 <보기>에서 있는 대로 고른 것은?
(단, 제시된 돌연변이 이외의 돌연변이와 교차는 고려하지 않으며,
A, a, B, b, D, d 각각의 1개당 DNA 상대량은 1이다.) [3점]

—<보 기>—

- ㄱ. 자녀 2에게서 A, B, D를 모두 갖는 생식세포가 형성될 수 있다.
- ㄴ. ㉠은 7번 염색체 결실이다.
- ㄷ. 염색체 비분리는 감수 2분열에서 일어났다.

- ① ㄱ ② ㄴ ③ ㄱ, ㄷ ④ ㄴ, ㄷ ⑤ ㄱ, ㄴ, ㄷ

