



서울권 수학교육과 연합 동아리

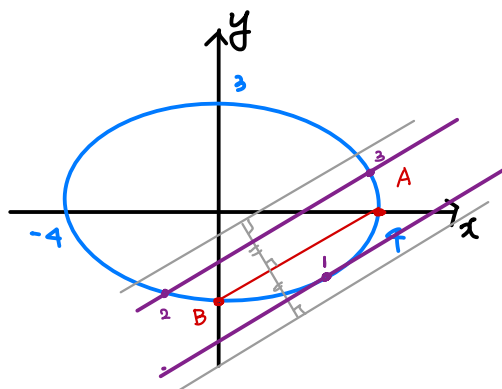
SUM 소모임 해장 고3팀 주관

theme 1. 이차곡선의 특이점

1. 타원 $\frac{x^2}{16} + \frac{y^2}{9} = 1$ 과 두 점 A(4, 0), B(0, -3)이 있다. 이 타원 위의 점 P에 대하여 삼각형 ABP의 넓이가 k가 되도록 하는 점 P의 개수가 3일 때, 상수 k의 값은?

2023 사관 25

- ① $3\sqrt{2}-3$ ② $6\sqrt{2}-7$ ③ $3\sqrt{2}-2$
- ④ $6\sqrt{2}-6$ ⑤ $6\sqrt{2}-5$



△ABP 넓이는 높이에 의해 결정.

즉, $3x - 4y = 12$ (AB)와 평행한 선을 $3x - 4y = 12 \pm k$ 와 타원의 교점개수 = P의 개수.

즉, AB로 나뉜 타원곡선 중 더 작은 부분에서

$3x - 4y = 12$ 의 평행선이 접선이 될 때의 접점이 P로 가능

$$y = \frac{3}{4}x \pm \sqrt{16 \times (\frac{3}{4})^2 + 9} = \frac{3}{4}x \pm k$$

즉, 아래쪽 접선은 $y = \frac{3}{4}x - k$ 이고 $y = \frac{3}{4}x - 3$ 과의 거리는

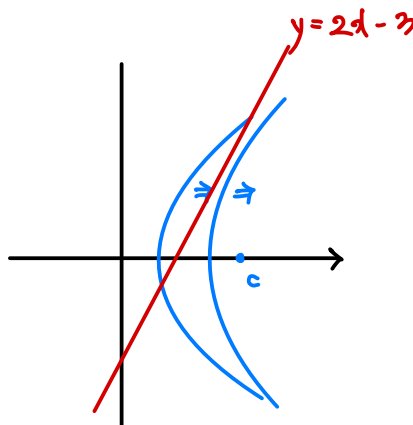
$$k(\sqrt{2}-1) \times \frac{4}{5} \therefore k = \frac{1}{2} \times \frac{4}{5} \times \frac{12}{5}(\sqrt{2}-1) = 6(\sqrt{2}-1) \quad \therefore 4$$

2. 좌표평면에서 직선 $y=2x-3$ 위를 움직이는 점 P가 있다. 두 점 A(c, 0), B(-c, 0) (c > 0)에 대하여 $\overline{PB} - \overline{PA}$ 의 값이 최대가 되도록 하는 점 P의 좌표가 (3, 3)일 때, 상수 c의 값은?

2023 6월 28

- ① $\frac{3\sqrt{6}}{2}$ ② $\frac{3\sqrt{7}}{2}$ ③ $3\sqrt{2}$
- ④ $\frac{9}{2}$ ⑤ $\frac{3\sqrt{10}}{2}$

∴ ①



$\overline{PB} - \overline{PA} = 2a$ 라 할 때,

$$\text{쌍곡선 } \frac{x^2}{a^2} - \frac{y^2}{c^2-a^2} = 1 \text{ 위의 점}$$

$y=2x-3$ 위의 점에 속하는 최대의 c 값 찾아야함.

a가 증가 \rightarrow 점근선 방정식 기울기 \uparrow
 $(a, 0) \rightarrow (c, 0)$

∴ a 증가하다 보면 $y=2x-3$ 과 접하고. 그 후는 쌍곡선 위에 $y=2x-3$ 위 점 x.

$$\text{즉, } y=2x-3 \text{이 P에 } \frac{x^2}{a^2} - \frac{y^2}{c^2-a^2} = 1 \text{의 점선.}$$

$$\frac{3x}{a^2} - \frac{3y}{c^2-a^2} = 1. \quad y = \frac{c^2-a^2}{a^2}x - \frac{c^2-a^2}{3} \rightsquigarrow c^2 - a^2 = 9$$

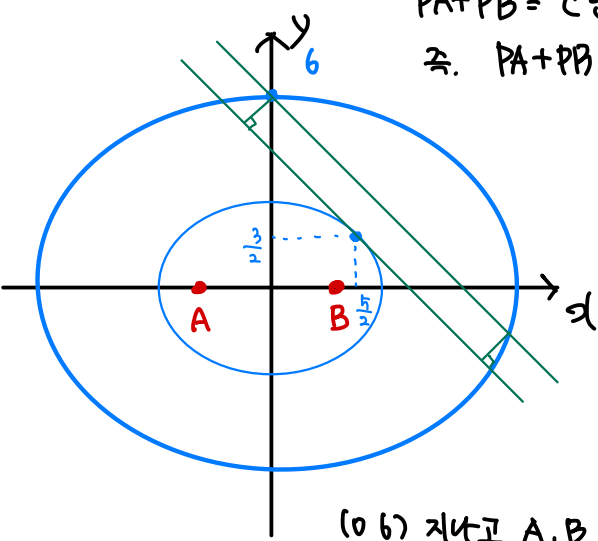
$$c^2 = \frac{21}{2} \quad c = 3\sqrt{\frac{3}{2}} = \frac{3\sqrt{6}}{2} \quad a^2 = \frac{9}{2}$$

3. 좌표평면에서 두 점 A(-2, 0), B(2, 0)에 대하여 다음 조건을 만족시키는 직사각형의 넓이의 최댓값은?

직사각형 위를 움직이는 점 P에 대하여 $\overline{PA} + \overline{PB}$ 의 값은 점 P의 좌표가 (0, 6)일 때 최대이고 $(\frac{5}{2}, \frac{3}{2})$ 일 때 최소이다.

2020 9월 21

- ① $\frac{200}{19}$ ② $\frac{210}{19}$ ③ $\frac{220}{19}$ ④ $\frac{230}{19}$ ⑤ $\frac{240}{19}$



$PA+PB = c$ 인 점의 자취 \Rightarrow 타원.
 즉. $PA+PB$ 의 최댓값 \Rightarrow 초점 앞치 타원 중 크기 Max
 최솟값 \Rightarrow 초점 앞치 타원 중 크기 Min

(0, 6) 지나고 A, B 초점으로 하는 타원 : $\frac{x^2}{40} + \frac{y^2}{36} = 1$
 $(\frac{5}{2}, \frac{3}{2})$ 지나고 A, B " : $\frac{x^2}{10} + \frac{y^2}{6} = 1$

이때, 직사각형은 무조건 두 점을 지나고, 두 타원 사이 영역에 유지한다. 즉, (0, 6)은 무조건 직사각형 꼭짓점.

직사각형 넓이가 최대려면, ① $(\frac{5}{2}, \frac{3}{2})$ 에서의 접선이 한 변
 ② $(\frac{5}{2}, \frac{3}{2})$ 가 또 하나의 꼭짓점.

중 ①의 경우가 무조건 더 넓이가 크다.

$\frac{5}{2}x + \frac{3}{2}y = \frac{x}{4} + \frac{y}{4} = 1 \quad \therefore x+y=4$

즉, $x+y=4$ 와 $x+y=6$ 을 두 변으로 가릴까

예상 가능하고, 두 직선 사이 거리는 $\sqrt{2}$. 나머지 두 변은 $y=x-k$ 와 평행

또, $x+y=6$ 이 큰 타원과 만나는 점 : $\frac{x^2}{40} + \frac{(6-x)^2}{36} = 1$
 $9x^2 + 10(6-x)^2 = 360$
 $19x^2 - 120x$

$\therefore (\frac{120}{19}, -\frac{6}{19})$ 이다. \Rightarrow 직사각형 나머지 두 변 $\frac{120}{19}\sqrt{2}$

\Rightarrow 구하는 넓이 : $\frac{120}{19}\sqrt{2} \cdot \sqrt{2} = \frac{240}{19}$ **⑤**

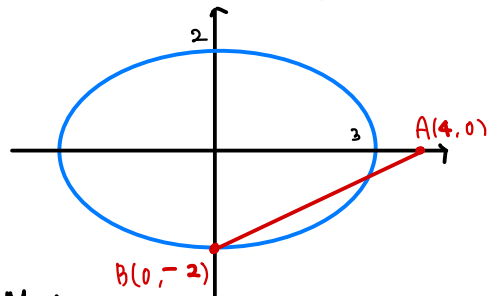
4. 좌표평면 위에 타원 $E: \frac{x^2}{9} + \frac{y^2}{4} = 1$ 와 두 점 A(4, 0), B(0, -2)가 있다. 실수 $t(0 < t \leq 9)$ 에 대하여 함수 $f(t)$ 를

집합

$\{X | X \text{는 타원 } E \text{ 위의 점이고, 삼각형 } ABX \text{의 넓이는 } t \text{이다.}\}$

의 원소의 개수라 할 때, $f(1)+f(9)$ 의 값을 구하시오.

2021 문참시 자작문제



일단, \overline{AB} 와 평행한 E의 접선을 구하면.

$y = \frac{1}{2}x \pm \sqrt{9 \times (\frac{1}{2})^2 + 2^2} = \frac{1}{2}x \pm \frac{5}{2}$

이때, 타원 위 점 X와 \overline{AB} 사이 거리는

(아랫쪽 접선과 \overline{AB} 사이거리) $\frac{|-2 - (-\frac{5}{2})|}{\sqrt{1+(\frac{1}{2})^2}} = \frac{1}{\sqrt{5}}$
 위쪽 " $\frac{|2 - (\frac{5}{2})|}{\sqrt{1+(\frac{1}{2})^2}} = \frac{1}{\sqrt{5}}$

즉, $\triangle ABX$ 의 범위는

X가 \overline{AB} 아래 : $0 \sim \frac{1}{2} \times 2\sqrt{5} \times \frac{1}{\sqrt{5}} = 1$

X가 \overline{AB} 위 : $0 \sim \frac{1}{2} \times 2\sqrt{5} \times \frac{9}{\sqrt{5}} = 9$

$\therefore f(t) = \begin{cases} 1 & \text{아래 위} \\ 0 & \text{아래 위} \end{cases}$

$f(9) = 0 + 1$

$\Rightarrow f(1) + f(9) = 4$

theme 2. 벡터, 그 중점의 자취

• 선분의 외분점, 내분점의 위치벡터

P •



• 두 벡터에 의한 나란히꼴과 기타 도형

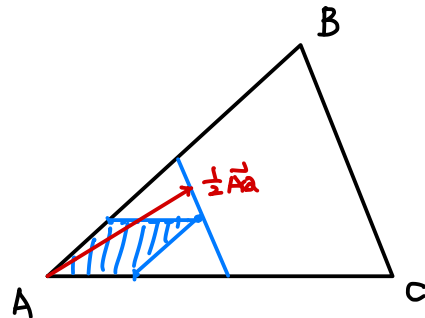
• 평면벡터와 원의 방정식

• 두 영역 내 점을 중점으로 하는 두 벡터의 선형결합.

5. 좌표평면에서 넓이가 9인 삼각형 ABC의 세 변 AB, BC, CA 위를 움직이는 점을 각각 P, Q, R라 할 때,

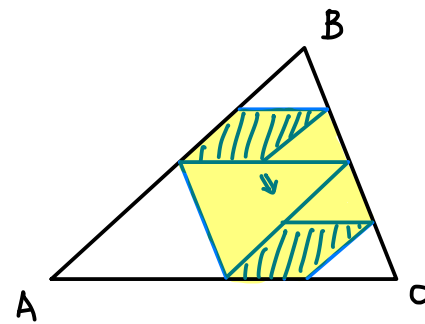
$$\vec{AX} = \frac{1}{4}(\vec{AP} + \vec{AR}) + \frac{1}{2}\vec{AQ}$$

를 만족시키는 점 X가 나타내는 영역의 넓이가 $\frac{q}{p}$ 이다. $p+q$ 의 값을 구하시오. (단, p 와 q 는 서로소인 자연수이다.)



2019 수능 29

$$\begin{aligned} \vec{AP} &= s \vec{AB} \\ \vec{AR} &= t \vec{AC} \end{aligned} \quad \begin{aligned} &0 \leq s, t \leq 1 \\ \vec{AP} + \vec{AR} & \text{은 평.사.} \end{aligned}$$



∴ X가 나타내는 넓이:

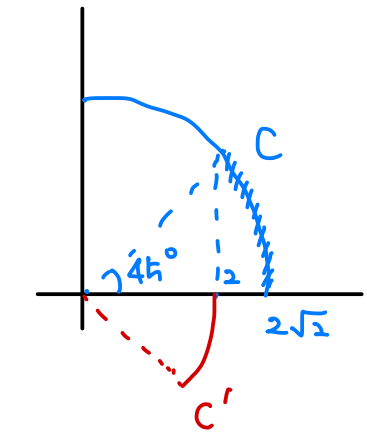
$$\frac{10}{16} \triangle ABC = \frac{4h}{8} \Rightarrow p+q = 13$$

6. 좌표평면에서 곡선 $C: y = \sqrt{8-x^2}$ ($2 \leq x \leq 2\sqrt{2}$) 위의 점 P에 대하여 $\overline{OQ} = 2$, $\angle POQ = \frac{\pi}{4}$ 를 만족시키고 직선 OP의 아래부분에 있는 점을 Q라 하자.
 점 P가 곡선 C 위를 움직일 때, 선분 OP 위를 움직이는 점 X와 선분 OQ 위를 움직이는 점 Y에 대하여

$$\overrightarrow{OZ} = \overrightarrow{OP} + \overrightarrow{OX} + \overrightarrow{OY}$$

를 만족시키는 점 Z가 나타내는 영역을 D라 하자.
 영역 D에 속하는 점 중에서 y축과의 거리가 최소인 점을 R라 할 때, 영역 D에 속하는 점 Z에 대하여 $\overline{OR} \cdot \overline{OZ}$ 의 최댓값과 최솟값의 합이 $a+b\sqrt{2}$ 이다. $a+b$ 의 값을 구하시오. (단, O는 원점이고, a와 b는 유리수이다.)

2020 6월 29

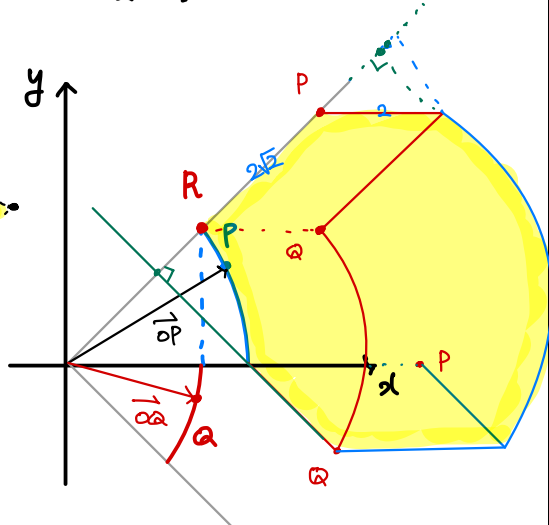
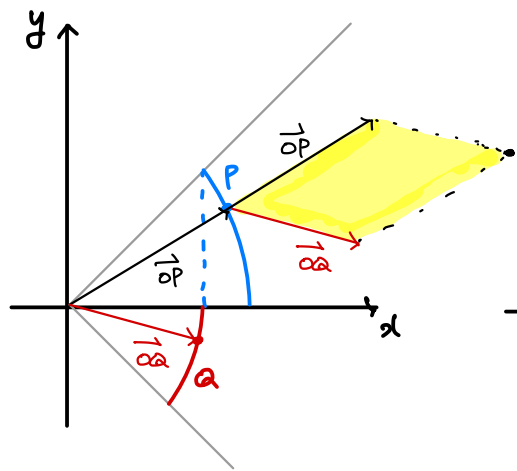
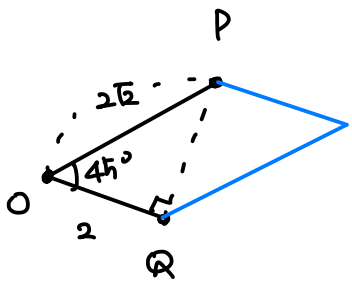


$\overline{OQ} = 2$.
 $\angle POQ = \frac{\pi}{4} \Rightarrow Q$ 는 호 C' 위점.

X는 OP. Y는 OQ 위 점
 $\Rightarrow \overrightarrow{OX} = s\overrightarrow{OP}$, $\overrightarrow{OY} = t\overrightarrow{OQ}$ ($0 \leq s, t \leq 1$)

$\therefore \overrightarrow{OX} + \overrightarrow{OY}$ 의 종점은 O, P, Q를 꼭짓점으로 하는 평사의 내부.

여기에 \overrightarrow{OP} 를 더하면. 구하는 값은 다음과 같다.



즉, R의 좌표는 (2, 2)가 되고.

\overrightarrow{OR} 의 \overrightarrow{OZ} 상 Max : $5\sqrt{2}$
 Min : 2

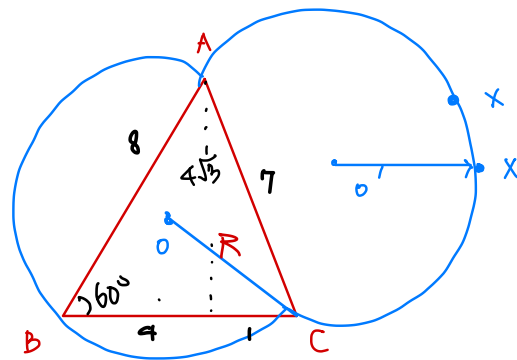
$$\therefore \overline{OR} \cdot \overline{OZ} = 2\sqrt{2} (5\sqrt{2} + 2) = 20 + 4\sqrt{2}$$

$a+b = 24$

7. $\overline{AB} = 8$, $\overline{BC} = 5$, $\overline{AC} = 7$ 인 삼각형 ABC가 있다. 이때, $\angle AXC = \frac{\pi}{3}$ 을 만족시키는 점 X의 자취 위에 존재하는 서로 다른 두 점 P, Q에 대하여 $\overline{BC} \cdot \overline{PQ}$ 의 최댓값은?

2022-1 해장 자작문제

- ① $20 + \frac{70\sqrt{3}}{3}$
- ② $20 + 20\sqrt{3}$
- ③ $20 + \frac{50\sqrt{3}}{3}$
- ④ $20 + \frac{40\sqrt{3}}{3}$
- ⑤ $20 + 10\sqrt{3}$



$\angle AXC = \frac{\pi}{3}$ 이므로, 자취는 다음과 같다.
 (circumcircle) 원주각.

$$2R \sin 60^\circ = 7 \Rightarrow R = \frac{7}{\sqrt{3}}$$

따라서, $\overrightarrow{PQ} = \overrightarrow{PO} + \overrightarrow{OO'} + \overrightarrow{O'Q}$ 로.

$$\overrightarrow{PQ} \cdot \overrightarrow{BC} \text{가 최대이려면, } \overrightarrow{PO} = \overrightarrow{O'Q} = R \left(\frac{\overrightarrow{BC}}{5} \right)$$

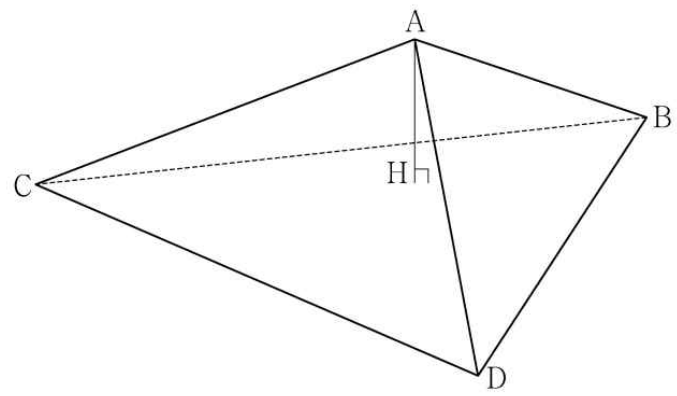
$$|\overrightarrow{O'Q}| = R.$$

$$\begin{aligned} \therefore \overrightarrow{PQ} \cdot \overrightarrow{BC} &= (\overrightarrow{PO} + \overrightarrow{OO'} + \overrightarrow{O'Q}) \cdot \overrightarrow{BC} \\ &\leq \overrightarrow{OO'} \cdot \overrightarrow{BC} + 2 \cdot R \frac{|\overrightarrow{BC}|}{5} \cdot |\overrightarrow{BC}| \\ &= \frac{7}{\sqrt{3}} \cdot 5 \cdot \frac{4\sqrt{3}}{7} + 2 \cdot \frac{7}{\sqrt{3}} \cdot 5 \\ &= 20 + \frac{70}{\sqrt{3}} \end{aligned}$$

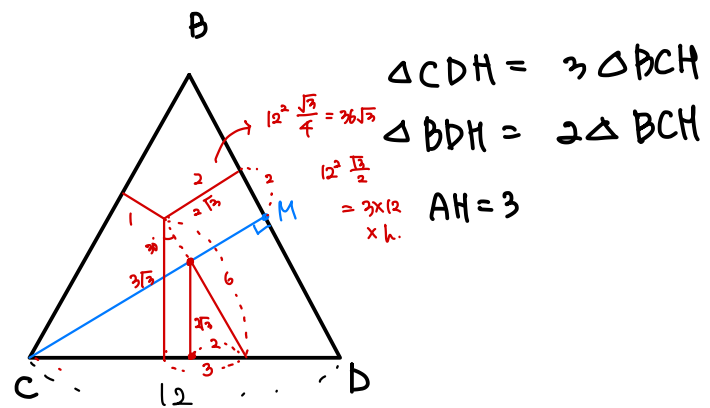
theme 3. 정사영을 통한 이면각의 추론

8. 한 변의 길이가 12인 정삼각형 BCD 를 한 면으로 하는 사면체 ABCD 의 꼭짓점 A 에서 평면 BCD 에 내린 수선의 발을 H 라 할 때, 점 H 는 삼각형 BCD 의 내부에 놓여 있다. 삼각형 CDH 의 넓이는 삼각형 BCH 의 넓이의 3배, 삼각형 DBH 의 넓이는 삼각형 BCH 의 넓이의 2배이고 $\overline{AH}=3$ 이다. 선분 BD 의 중점을 M, 점 A 에서 선분 CM 에 내린 수선의 발을 Q 라 할 때, 선분 AQ 의 길이는?

2019 수능 19



- ① $\sqrt{11}$ ② $2\sqrt{3}$ ③ $\sqrt{13}$ ④ $\sqrt{14}$ ⑤ $\sqrt{15}$



6

수학 영역(가형)

9. 좌표공간에서 y 축을 포함하는 평면 α 에 대하여 중심이 $A(4, 0, \sqrt{22})$ 이고 반지름의 길이가 5인 구와 xy 평면이 만나서 생기는 원을 C_1 , yz 평면이 만나서 생기는 원을 C_2 라 하자. 두 원 C_1, C_2 의 평면 α 위로의 정사영의 넓이가 S 로 같을 때, S 의 값은?

2014 9월 B 19번 변형

- ① $\frac{\sqrt{10}}{2}$ ② $\frac{3\sqrt{10}}{5}$ ③ $\frac{7\sqrt{10}}{10}$
 ④ $\frac{4\sqrt{10}}{5}$ ⑤ $\frac{9\sqrt{10}}{10}$

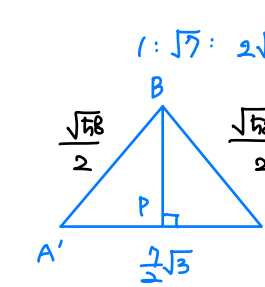
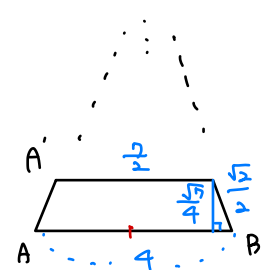
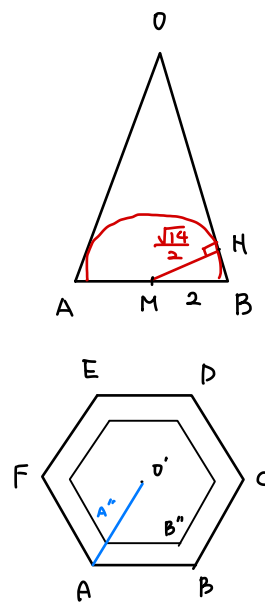
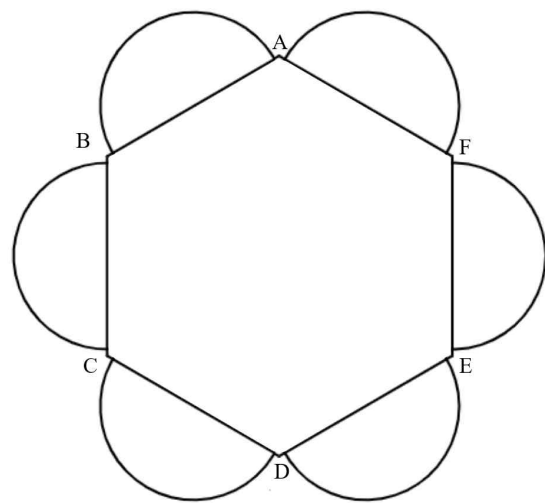
$\vec{r}: (x-4)^2 + y^2 + (z-\sqrt{22})^2 = 25$

$C_1: (x-4)^2 + y^2 = 3$

$C_2:$

10. 그림과 같이 한 변의 길이가 4인 정육각형 ABCDEF와 정육각형의 각 변의 중점을 중심으로 하고 지름의 길이가 $\sqrt{14}$ 인 반원이 6개 존재한다. 이때, 각 반원이 이웃한 반원과 접하도록 정육각형 ABCDEF의 각 변을 접는 선으로 하여 접었을 때의 접점을 각각 A', B', C', D', E', F' 이라 하자. 평면 ABCDEF와 평면 $A'BC'$ 이 이루는 각의 크기를 $\theta(0 < \theta < \frac{\pi}{2})$ 라 할 때, $\cos^2 \theta = \frac{q}{p}$ 이다. $p+q$ 의 값을 구하시오.
 (단, p 와 q 는 서로소인 자연수이다)

2022-1 해장 자작문제



$\cos \theta = \frac{\Delta A''BC''}{\Delta A'BC'}$

$HB = \sqrt{2^2 - (\frac{\sqrt{14}}{2})^2} = \frac{\sqrt{2}}{2}$

$OH \cdot HB = MH^2$

$OH = \frac{14}{4} \times \sqrt{2} = \frac{7\sqrt{2}}{2}$

$OB = 4\sqrt{2}$. H 는 OB 의 7:1 내분점.

즉, $OA'' : AA'' = 7:1$ 이므로,

$OA'' = \frac{7}{2}$

① $\Delta A''BC'' = \frac{1}{2} A''C'' \cdot (\frac{1}{2} OB'' + BB'')$
 $= \frac{1}{2} A''C'' \cdot \frac{9}{4}$

② $\Delta A'BC'$

$A'B = \sqrt{(\frac{\sqrt{14}}{4})^2 + (\frac{15}{4})^2}$
 $= \sqrt{\frac{272}{16}} = \frac{\sqrt{58}}{2}$

$\therefore BP = \sqrt{\frac{58}{4} - \frac{147}{16}} \quad \begin{matrix} 232 \\ 147 \end{matrix}$

$= \frac{\sqrt{85}}{4}$

$\Delta A'BC' = \frac{1}{2} \cdot A'C' \cdot \frac{\sqrt{85}}{4}$

$\therefore \cos \theta = \frac{9/4}{\sqrt{85}/4} = \frac{9}{\sqrt{85}}$

$\cos^2 \theta = \frac{81}{85}$

$p+q = 166$