

제 2 교시

수리 영역(가형)

가 형

성명

수험 번호

- 자신이 선택한 유형('가' 형/ '나' 형)의 문제지인지 확인하십시오.
- 문제지의 해당란에 성명과 수험 번호를 정확히 쓰시오.
- 답안지의 해당란에 성명과 수험 번호를 쓰고, 또 수험 번호와 답을 정확히 표시하십시오.
- 단답형 답의 숫자에 '0' 이 포함되면 그 '0' 도 답란에 반드시 표시하십시오.
- 문항에 따라 배점이 다르니, 각 물음의 끝에 표시된 배점을 참고하십시오. 배점은 2점, 3점 또는 4점입니다.
- 계산은 문제지의 여백을 활용하십시오.

1. $54^{\frac{2}{3}} \times 3^{\log_3 2}$ 의 값은? [2점]

- ① 3 ② 6 ③ 9 ④ 18 ⑤ 27
 -수능특강 수1 41쪽 5번, 수능특강 수1 60쪽 1번 (2)

2. $\tan\theta = \frac{1}{2}$ 일 때, $\sin 2\theta$ 의 값은? (단, $0 < \theta < \frac{\pi}{2}$) [2점]

- ① $\frac{3}{5}$ ② $\frac{3}{4}$ ③ $\frac{4}{5}$ ④ 1 ⑤ $\frac{4}{3}$
 -수능완성 실전모의고사 2쪽 3번

3. 연속함수 $f(x)$ 가

$$\lim_{x \rightarrow 0} f(x)(e^{4x^2} - 1) = 16$$

을 만족할 때, $\lim_{x \rightarrow 0} x^2 f(x)$ 의 값은? [2점]

- ① 2 ② 4 ③ 6 ④ 8 ⑤ 10
 -수능특강 수2 62쪽 4번

4. 쌍곡선 $\frac{x^2}{4} - \frac{y^2}{25} = 1$ 과 직선 $y = mx$ 가 만나기 위한 정수 m 의 개수는? [3점]

- ① 3 ② 5 ③ 7 ④ 9 ⑤ 11
 -수능완성 기백 50쪽 16번

5. 좌표공간에서 세 개의 구

$$x^2 + y^2 + z^2 = 1$$

$$(x-1)^2 + y^2 + (z-2)^2 = 4$$

$$x^2 + (y-1)^2 + (z-1)^2 = 9$$

의 부피를 각각 이등분하는 평면 α 에 대하여 점 $A(1, 1, 0)$ 에서 평면 α 까지의 거리는? [3점]

- ① $\frac{1}{2}$ ② $\frac{\sqrt{2}}{2}$ ③ $\frac{\sqrt{3}}{2}$ ④ 1 ⑤ $\frac{\sqrt{6}}{2}$
 -수능완성 기백 107쪽 21번

6. 직선 $\frac{x-1}{2} = \frac{y+2}{3} = \frac{z-1}{4}$ 위의 두 점 $A(1, -2, 1)$ 와 B 에 대하여 선분 AB 의 xy 평면 위로의 정사영의 길이가 $2\sqrt{13}$ 일 때, 선분 AB 의 yz 평면 위로의 정사영의 길이는? [3점]

- ① 5 ② $5\sqrt{2}$ ③ 10 ④ $10\sqrt{2}$ ⑤ 15
 -수능특강 기백 94쪽 4번

7. 두 일차변환 f, g 를 나타내는 행렬을 각각

$$A = \begin{pmatrix} -1 & 0 \\ 0 & 1 \end{pmatrix}, B = \begin{pmatrix} \cos \frac{\pi}{6} & -\sin \frac{\pi}{6} \\ \sin \frac{\pi}{6} & \cos \frac{\pi}{6} \end{pmatrix}$$

라 하자. 좌표평면에서 행렬 $(ABA)^6, (BAB)^6$ 으로 나타내어지는 일차변환에 의하여 점 $P(\sqrt{3}, 1)$ 이 옮겨지는 점을 각각 Q, R라고 할 때, 선분 QR의 길이는? [3점]

- ① 2 ② $2\sqrt{3}$ ③ 3 ④ 4 ⑤ $4\sqrt{3}$

-수능완성 실전모의고사 8쪽 25번

8. 어떤 사람에게 알파벳 세 개를 들려준 다음 406과 같은 숫자를 하나 불러주고 숫자 3을 계속해서 빼는 과정을 시킴으로써 알파벳을 기억하지 못하게 하는 실험을 하였다. 숫자를 빼는 과정을 하는 시간 t 에 따른 기억의 지속 시간을 측정해 본 결과 알파벳을 정확하게 기억할 확률 $P(t)$ 는

$$P(t) = 0.89\{0.01 + 0.99 \times 0.85^t\}$$

로 나타났다. $t=a$ 일 때의 확률 $P(a)$ 가 알파벳을 들려주고 바로 기억할 확률 $P(0)$ 의 $\frac{19}{100}$ 보다 작아지게 되는 자연수 a 의 최솟값은? (단, 시간의 단위는 초이고, $\log 1.1 = 0.04, \log 1.7 = 0.23, \log 2 = 0.30$ 으로 계산한다.) [3점]

- ① 10 ② 11 ③ 12 ④ 13 ⑤ 14

-수능완성 실전모의고사 43쪽 9번

9. 다음은 수열 $\{a_n\}$ 에서 $a_1 = 1$ 이고, $n \geq 2$ 인 모든 자연수 n 에 대하여 $a_n = S_{n-1} + \sum_{k=1}^n 3^{k-1}$ 을 만족시킬 때, $a_n = 3^n - 2^n$ ($n \geq 2$)임을 수학적귀납법을 이용하여 증명한 것이다. (단, $S_n = \sum_{k=1}^n a_k$ 이다.)

< 증명 >

(i) $n=2$ 일 때, $a_2 = S_1 + \sum_{k=1}^2 3^{k-1} = 1 + (1+3) = 5 = 3^2 - 2^2$

이므로 성립한다.

(ii) $n=m$ ($m \geq 2$)일 때 성립한다고 가정하면

$$a_m = S_{m-1} + \sum_{k=1}^m 3^{k-1} \text{이다.}$$

$n=m+1$ 일 때,

$$a_{m+1} = S_m + \sum_{k=1}^{m+1} 3^{k-1}$$

$$= (S_{m-1} + \boxed{\text{가}}) + \left(\sum_{k=1}^m 3^{k-1} + \boxed{\text{나}} \right)$$

$$= \left(S_{m-1} + \sum_{k=1}^m 3^{k-1} \right) + (\boxed{\text{가}} + \boxed{\text{나}})$$

$$= a_m + (\boxed{\text{가}} + \boxed{\text{나}})$$

$$= \boxed{\text{다}} \times a_m + \boxed{\text{나}}$$

$$= 3^{m+1} - 2^{m+1}$$

따라서 모든 자연수 n ($n \geq 2$)에 대하여

$$a_n = 3^n - 2^n \text{이 성립한다.}$$

위의 (다)에 알맞은 값을 p , (가), (나)에 알맞은 식의 합을 $f(m)$ 라고 할 때, $f(p)$ 의 값은? [3점]

- ① 5 ② 9 ③ 14 ④ 19 ⑤ 23

-수능완성 실전모의고사 36쪽 13번

10. 부산 국제 영화제에 출품된 영화 A, B, C, D, E가 상영되고 있다. 8명의 사람이 각각 5개의 영화를 보고, 그림과 같은 평가판에 만족한 두 영화를 선택하여 두 영화에 해당하는 칸에 ● 모양의 스티커를 1개씩 붙인다고 한다. 이와 같이 스티커를 붙여 평가된 결과 중 2개의 영화에 스티커가 붙여지지 않는 서로 다른 경우의 수는? [3점]

A	B	C	D	E
●	●	●	●	●
●	●	●	●	●
		●	●	●
		●	●	●
		●	●	●

- ① 45 ② 105 ③ 210 ④ 420 ⑤ 840
 -수능완성 적통 60쪽 4번

11. 수열 $\{a_n\}$ 이 다음 세 조건을 모두 만족할 때, $\sum_{n=1}^{\infty} \frac{a_n}{5^n}$ 의 값은?
 [3점]

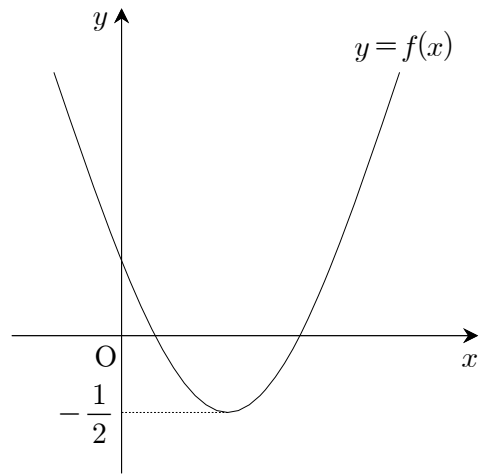
- (가) $a_1 = 1, a_2 = 7$
 (나) 수열 $\{a_{n+1} - 3a_n\}$ 은 공비가 4인 등비수열이다.
 (다) 수열 $\{a_{n+1} - 4a_n\}$ 은 공비가 3인 등비수열이다.

- ① $-\frac{5}{2}$ ② $-\frac{5}{4}$ ③ 1 ④ $\frac{5}{4}$ ⑤ $\frac{5}{2}$
 -수능특강 수1 117쪽 15번

12. 이차함수 $y=f(x)$ 의 그래프는 그림과 같이 x 축과 서로 다른 두 양수인 점에서 만나며, 최솟값이 $-\frac{1}{2}$ 이다. 이때, 방정식

$$\frac{1}{|f(x)|-1} - \frac{2}{\{|f(x)|\}^2-1} = \frac{2}{3}$$

의 서로 다른 실근의 개수는? [3점]



- ① 1 ② 2 ③ 3 ④ 4 ⑤ 5
 -수능특강 수2 9쪽 유제 3번

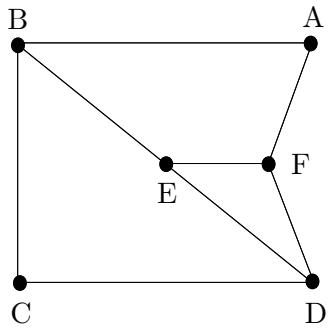
13. 확률변수 X 는 정규분포 $N(10, \sigma_1^2)$ 을 따르고, 확률변수 Y 는 정규분포 $N(12, \sigma_2^2)$ 을 따른다. 두 확률변수 X, Y 의 확률밀도함수를 각각 $f(x), g(x)$ 라 할 때, 옳은 것만을 <보기>에서 있는 대로 고른 것은? [3점]

- < 보 기 >
 ㄱ. $\sigma_1 = \sigma_2$ 이면 $f(x)$ 와 $g(x)$ 의 최댓값은 같다.
 ㄴ. $\sigma_1 = \sigma_2$ 이면 $\int_{10}^{12} f(x)dx = \int_{10}^{12} g(x)dx$ 이다.
 ㄷ. $\sigma_1 > \sigma_2$ 이면 $\int_{10}^{12} f(x)dx < \int_{10}^{12} g(x)dx$ 이다.

- ① ㄱ ② ㄴ ③ ㄱ, ㄴ
 ④ ㄴ, ㄷ ⑤ ㄱ, ㄴ, ㄷ

-수능완성 적통 102쪽 5번

14. 그림과 같이 꼭짓점이 A, B, C, D, E, F인 그래프 G에 대하여 옳은 것만을 <보기>에서 있는 대로 고른 것은? (단, 서로 다른 두 꼭짓점을 연결한 변은 오직 한 개이고, 하나의 꼭짓점을 시작점과 도착점으로 하는 변은 존재하지 않는다.) [4점]

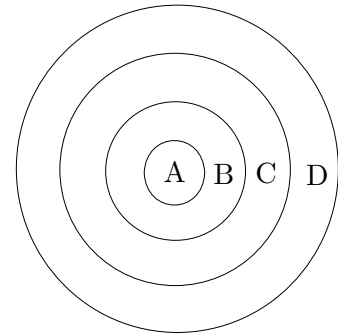


- < 보 기 >
- ㄱ. 그래프 G를 나타내는 행렬을 P라 할 때, 행렬 P의 성분 중 1의 개수는 16이다.
 - ㄴ. 꼭짓점 E의 차수가 짝수가 되도록 꼭짓점 E와 연결될 수 있는 꼭짓점의 개수는 2이다.
 - ㄷ. 그래프 G가 모든 변을 오직 한 번씩만 지나며 시작점으로 돌아오는 경로가 존재하도록 하기 위해 추가적으로 필요한 변의 개수의 최솟값은 3이다.

- ① ㄱ
- ② ㄴ
- ③ ㄱ, ㄴ
- ④ ㄴ, ㄷ
- ⑤ ㄱ, ㄴ, ㄷ

-수능특강 수1 34쪽 4번

15. 그림과 같이 중심이 같고 반지름의 길이가 1, 2, 3, 4인 네 개의 원으로 구성된 원판이 있다. 이 네 개의 원을 경계로 하여 안으로부터 네 개의 영역 A, B, C, D로 나누고 차례대로 10, 8, 6, 4점을 나타낸다고 한다. 총 6발의 화살을 사용하여 원판을 맞힌다고 할 때, 처음 3발은 10점짜리 영역인 A에 명중하였고, 나머지 3발을 쏘아 총 50점의 점수를 받았다. 마지막 3발의 화살에서 같은 점수를 두 번 맞췄을 때, 4점짜리 영역인 D에 화살이 맞을 확률은? (단, 화살이 명중한 점수의 순서가 다르더라도 다른 경우로 생각하고, 모든 화살은 원판에 있는 원 안에 맞고 각 원의 경계 지점에 맞는 경우는 없다고 한다.) [4점]



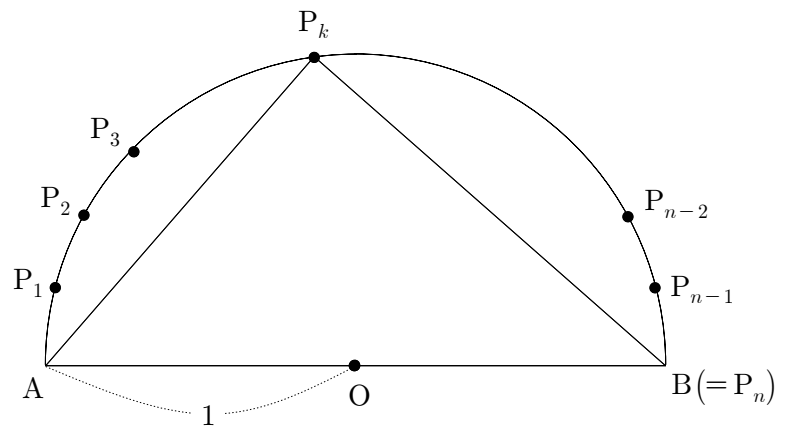
- ① $\frac{21}{46}$
- ② $\frac{25}{46}$
- ③ $\frac{29}{46}$
- ④ $\frac{33}{46}$
- ⑤ $\frac{21}{23}$

-수능완성 실전모의고사 14쪽 19번

16. 그림과 같이 선분 AB를 지름으로 하는 반원에 대하여 점 O는 선분 AB의 중점이고 $\overline{OA} = 1$ 이다. 반원에서 호 AB를 n등분하는 점을 각각 $P_1, P_2, P_3, \dots, P_{n-1}$ 이라 할 때,

$$\lim_{n \rightarrow \infty} \frac{1}{n} \sum_{k=1}^n \overline{AP_k}$$

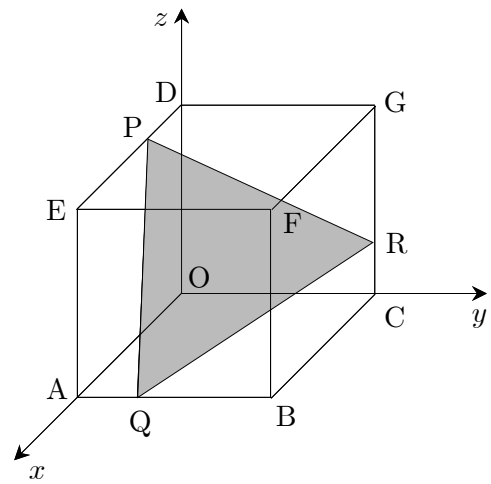
의 값은? (단, 점 P_n 은 점 B와 같은 점이다.) [4점]



- ① $\frac{1}{\pi}$
- ② $\frac{2}{\pi}$
- ③ $\frac{3}{\pi}$
- ④ $\frac{4}{\pi}$
- ⑤ $\frac{5}{\pi}$

-수능완성 적통 24쪽 27번

17. 그림과 같이 좌표공간에서 한 모서리의 길이가 3인 정육면체 $OABC-DEFG$ 가 있다. 선분 DE, AB, CG 를 1:2로 내분하는 점을 각각 P, Q, R 라 하고 세 점 P, Q, R 를 지나는 평면을 α 라 할 때, 옳은 것만을 <보기>에서 있는 대로 고른 것은? (단, 점 O 는 원점이다.) [4점]

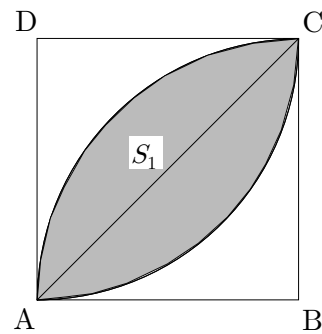


- < 보 기 >
- ㄱ. 평면 α 의 방정식은 $x+y+z=4$ 이다.
 - ㄴ. 평면 α 와 평면 $ABGD$ 가 이루는 각의 크기를 θ 라 할 때, $\cos \theta = \frac{\sqrt{6}}{3}$ 이다.
 - ㄷ. 삼각형 PQR 를 평면 $ABGD$ 에 정사영 시킨 넓이는 $\frac{7}{2}\sqrt{2}$ 이다.

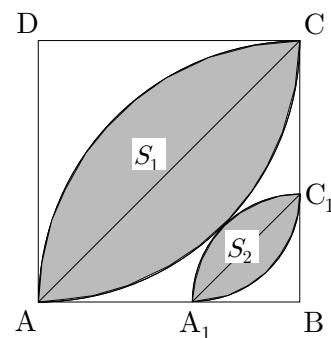
- ① ㄱ
- ② ㄴ
- ③ ㄱ, ㄴ
- ④ ㄴ, ㄷ
- ⑤ ㄱ, ㄴ, ㄷ

-수능특강 기백 137쪽 7번

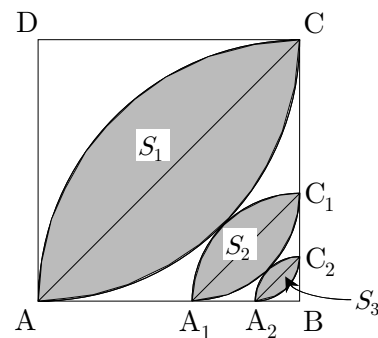
18. 한 변의 길이가 1인 정사각형 $ABCD$ 가 있다. [그림 1]과 같이 점 B 를 중심으로 하고, 선분 BA 를 반지름으로 하는 부채꼴 BAC 의 호 AC 와 호 AC 를 직선 AC 에 대칭이동한 호로 둘러싸인 도형의 넓이를 S_1 이라 하자. [그림 2]와 같이 점 B 를 중심으로 하고, 호 AC 를 직선 AC 에 대칭이동한 호에 접하는 부채꼴과 두 선분 AB, BC 가 만나는 점을 각각 A_1, C_1 이라 하고, 호 A_1C_1 과 호 A_1C_1 을 직선 A_1C_1 에 대칭이동한 호로 둘러싸인 도형의 넓이를 S_2 라 하자. [그림 3]과 같이 점 B 를 중심으로 하고, 호 A_1C_1 을 직선 A_1C_1 에 대칭이동한 호에 접하는 부채꼴과 두 선분 A_1B, BC_1 이 만나는 점을 각각 A_2, C_2 라 하고, 호 A_2C_2 와 호 A_2C_2 를 직선 A_2C_2 에 대칭이동한 호로 둘러싸인 도형의 넓이를 S_3 라 하자. 이와 같은 과정을 계속하여 n 번째 얻은 도형의 넓이를 S_n 이라 할 때, $\sum_{n=1}^{\infty} S_n$ 의 값은? [4점]



[그림 1]



[그림 2]



[그림 3]

- ① $\frac{\pi}{4}(\sqrt{2}-1)$
- ② $(\frac{\pi}{4}-\frac{1}{2})(\sqrt{2}-1)$
- ③ $\frac{\pi}{4}-\frac{1}{2}$
- ④ $(\frac{\pi}{4}-\frac{1}{2})\sqrt{2}$
- ⑤ $(\frac{\pi}{4}-\frac{1}{2})(\sqrt{2}+1)$

-수능완성 실전모의고사 38쪽 19번

19. 두 함수

$$f(x) = \begin{cases} 2(x+a)^2 & (x \leq 0) \\ -2(x-a)^2 & (x > 0) \end{cases}, g(x) = \lim_{n \rightarrow \infty} \frac{x^{n+2} + x^{n+1}}{x^n + 3}$$

에 대하여 함수 $f(x)g(x)$ 가 실수 전체에서 연속함수일 때, $f(-3)g(3)$ 의 값은? (단, $a \neq 0$ 이다.) [4점]

- ① 12 ② 24 ③ 48 ④ 96 ⑤ 192

-수능특강 수2 77쪽 14번 □ + 수능완성 수2 57쪽 7

번

20. 닫힌구간 $[-\frac{\pi}{2}, \frac{3\pi}{2}]$ 에서 정의된 함수 $f(x) = \ln(\cos x + 2)$ 에 대한 설명으로 옳은 것만을 <보기>에서 있는 대로 고른 것은? [4점]

< 보 기 >

ㄱ. 함수 $f(x)$ 는 서로 다른 두 점에서 극값을 갖는다.

ㄴ. 열린 구간 $(0, \pi)$ 에서 방정식 $f'(x) = -\frac{\ln 3}{\pi}$ 는 적어도 서로 다른 두 실근을 갖는다.

ㄷ. 방정식 $f(x) = -\frac{\ln 3}{\pi}x + k$ 의 서로 다른 실근의 개수를 $h(k)$ 라 할 때, 함수 $h(k)$ 은 서로 다른 네 개의 불연속점을 갖는다.

- ① ㄱ ② ㄴ ③ ㄱ, ㄴ
 ④ ㄴ, ㄷ ⑤ ㄱ, ㄴ, ㄷ

-수능특강 수2 136쪽 4번

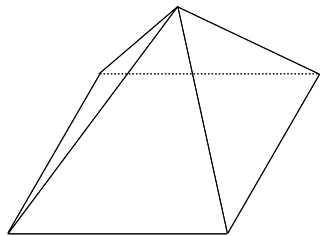
21. 정육면체 모양의 두 주사위 A, B를 동시에 던질 때, 나오는 각각의 눈의 수 a, b 에 대하여 $\int_a^b |x-3|dx > 2$ 가 되는 사건을 E 라 하자. 두 주사위 A, B를 동시에 72번 던지는 시행에서 사건 E 가 일어나는 횟수를 확률변수 X 라 할 때, X 의 평균 $E(X)$ 는? [4점]

- ① 8 ② 16 ③ 24 ④ 32 ⑤ 40

-수능완성 실전모의고사 17쪽 30번

단답형

22. 그림과 같이 모든 변의 길이가 같은 정사각뿔의 5개의 면을 5가지의 색을 사용하여 칠하려고 한다. 한 면에 한 가지의 색만 칠하려고 할 때, 색을 칠하는 방법의 수를 구하시오. (단, 회전하여 같은 것은 한 가지의 경우로 생각한다.) [3점]



-수능완성 적통 47쪽 9번

23. $0 < a \leq 3$ 에 대하여 연립부등식

$$\begin{cases} (x+1)(x-a)(x-5) \leq 0 \\ \frac{(x-4)}{(x+a)(x-1)} \geq 0 \end{cases}$$

을 만족시키는 정수의 개수가 3개일 때, a 의 최댓값을 구하시오. [3점]

-수능완성 수2 21쪽 7번

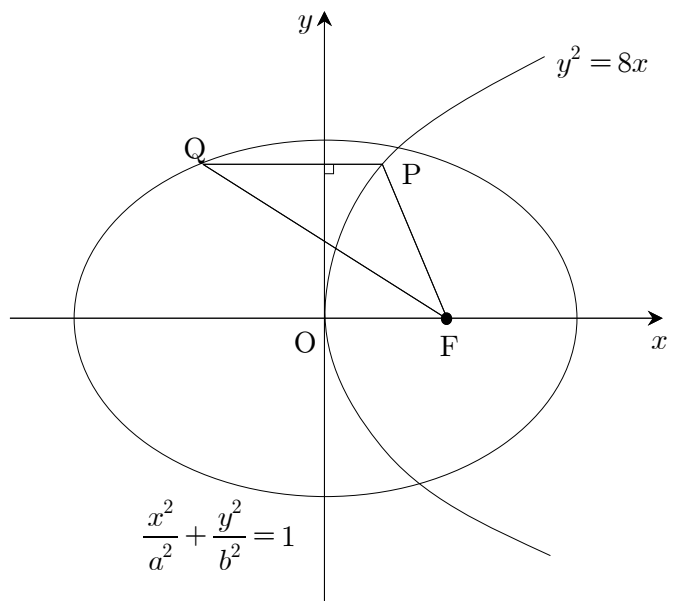
24. 좌표공간 위의 점 $P(1, -3, 4)$ 에서 xy 평면에 있는 직선 $y = \frac{3}{4}x$ 에 내린 수선의 발을 H 라 할 때, 선분 PH 의 길이를 구하시오. [3점]

-수능완성 기백 68쪽 7번

25. 그림과 같이 포물선 $y^2 = 8x$ 의 초점과 타원 $\frac{x^2}{a^2} + \frac{y^2}{b^2} = 1$ 의 초점 F 가 서로 일치한다. 제1사분면에 놓인 포물선 $y^2 = 8x$ 위의 점 P 를 지나고 y 축에 수직인 직선이 제2사분면에서 타원 $\frac{x^2}{a^2} + \frac{y^2}{b^2} = 1$ 과 만나는 점을 Q 라 하자. 삼각형 PQF 에서

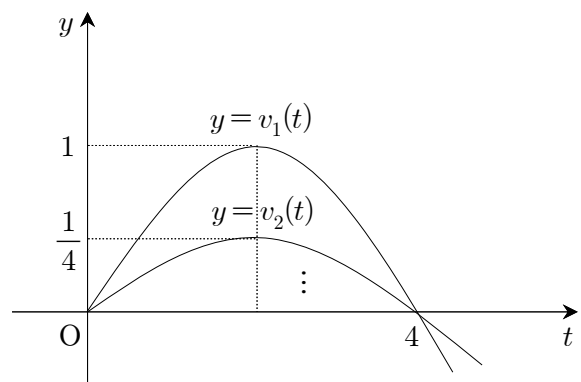
$$\overline{PQ} = \overline{PF}, \overline{QF} = 5$$

일 때, ab^2 의 값을 구하시오. (단, $a > 0, b > 0$ 이다.) [3점]



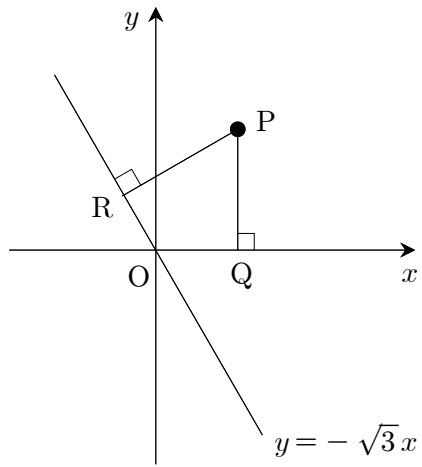
-수능완성 실전모의고사 12쪽 11번

26. 임의의 자연수 n 에 대하여 원점을 출발하여 수직선 위를 움직이는 점 P_n 의 시각 t 에서의 속도 $y = v_n(t)$ 의 그래프는 그림과 같이 두 점 $(0, 0), (4, 0)$ 을 지나고 최댓값이 $\left(\frac{1}{4}\right)^{n-1}$ 인 이차함수의 그래프의 일부분이다. 점 P_n 이 원점으로부터 양의 방향으로 가장 멀리 떨어진 지점까지 움직인 거리를 S_n 이라고 할 때, $S_n < \frac{1}{600}$ 을 만족하는 n 의 최솟값을 구하시오. [4점]



-수능완성 실전모의고사 13쪽 14번

27. 일차변환 f 를 나타내는 행렬을 $\begin{pmatrix} \cos \theta & -\sin \theta \\ \sin \theta & \cos \theta \end{pmatrix}$ 라 할 때, 점 $(2, 0)$ 이 일차변환 f 에 의해 옮겨진 점을 P 라 하고, 점 P 에서 x 축에 내린 수선의 발을 Q , 점 P 에서 직선 $y = -\sqrt{3}x$ 에 내린 수선의 발을 R 라 하자. $\overline{PQ} \times \overline{PR}$ 가 $\theta = \alpha$ 에서 최대일 때, $\tan^2 \alpha$ 의 값을 구하시오. [4점]



-수능완성 실전모의고사 6쪽 17번

28. 최고차항의 계수가 양수이고, 서로 다른 두 극값을 가지는 삼차함수 $f(x)$ 에 대하여 두 집합 A, B 를

$$A = \{x \mid f(x) = 0\}, B = \left\{x \mid \int_0^x f(t) dt = 0\right\}$$

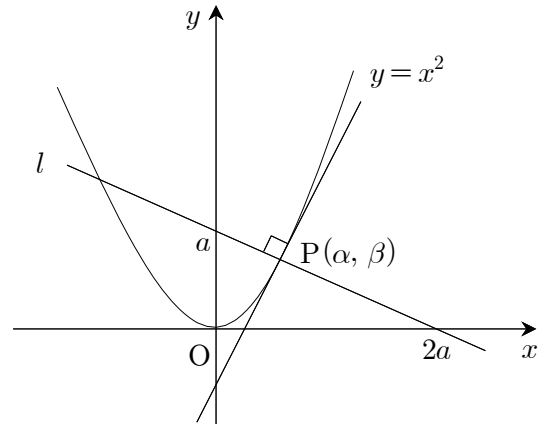
라 하자. $n(A) = 2$ 일 때, $n(A \cup B)$ 의 최댓값과 최솟값의 합을 구하시오. (단, $n(X)$ 는 집합 X 의 원소의 개수이다.) [4점]

-수능완성 실전모의고사 25쪽 28번

29. 그림과 같이 곡선 $y = x^2$ 위의 제1사분면에 있는 점 $P(\alpha, \beta)$ 에서의 접선과 직선 l 이 서로 수직으로 만나고 있다. 직선 l 의 x 절편과 y 절편이 각각 $2a, a$ 이고, 점 P 의 x, y 좌표인 α 와 β 에 대하여

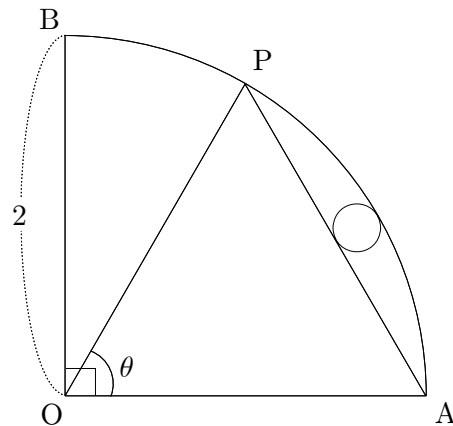
$$\begin{pmatrix} \alpha \\ \beta \end{pmatrix} = \frac{1}{5} \begin{pmatrix} 1 & b \\ c & -1 \end{pmatrix} \begin{pmatrix} 2a \\ 1 \end{pmatrix}$$

인 관계식이 성립한다. 이때, $b+c$ 의 값을 구하시오. (단, $a > 0$ 이다.) [4점]



-수능특강 수1 25쪽 8번

30. 그림과 같이 반지름의 길이가 2인 사분원 OAB 의 호 AB 위의 점 P 에 대하여 $\angle AOP = \theta$ ($0 < \theta < \frac{\pi}{2}$)라 하자. 선분 PA 와 호 PA 로 둘러싸인 도형을 S 라 하고, 도형 S 에 내접하는 원 중 반지름의 길이가 가장 큰 원의 넓이를 $f(\theta)$ 라 하자. 또한, 삼각형 OAP 의 넓이를 $g(\theta)$, 호 PA 의 길이를 $h(\theta)$ 라 할 때, $\lim_{\theta \rightarrow +0} \frac{f(\theta)}{\theta^2 g(\theta) h(\theta)} = \frac{q}{p} \pi$ 이다. $p+q$ 의 값을 구하시오. (단, p 와 q 는 서로소인 자연수이다.) [4점]



-수능완성 실전모의고사 40쪽 27번

* 확인 사항
 ○ 답안지의 해당란에 필요한 내용을 정확히 기입(표기)했는지 확인하시오